

МИНИСТЕРСТВО СЕЛЬСКОГО ХОЗЯЙСТВА РФ

ФГБОУ ВПО «БРЯНСКАЯ ГОСУДАРСТВЕННАЯ
СЕЛЬСКОХОЗЯЙСТВЕННАЯ АКАДЕМИЯ»

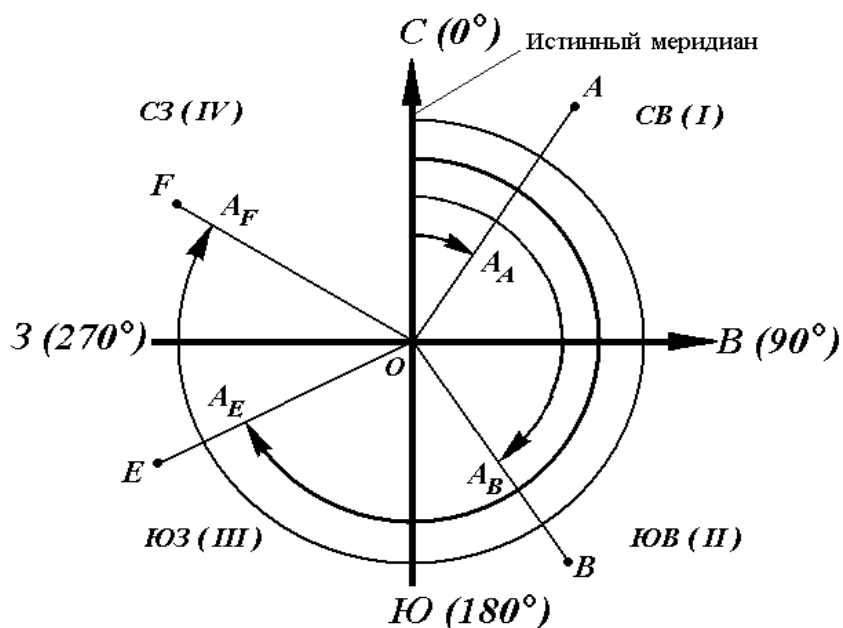
Кафедра «Природообустройства и водопользования»

Е.В.Байдакова., В.Н.Кривоускова., Е.М.Байдаков

ИНЖЕНЕРНАЯ ГЕОДЕЗИЯ

МЕТОДИЧЕСКИЕ УКАЗАНИЯ

к выполнению контрольных и расчетно-графических работ для студентов очной и заочной форм обучения по направлению: природообустройство и водопользование, землеустройство и кадастры



Брянск 2013

УДК 528:62(07)
ББК 26.12
И 62

Инженерная геодезия: Методические указания к выполнению контрольных и расчетно-графических работ/ **Е.В. Байдакова, В.Н. Кровопускова, Е.М. Байдаков.** – Брянск: Издательство Брянской ГСХА, 2013. – 88 с.

Сост. **Е.В. Байдакова**, кандидат технических наук, доцент кафедры природопользование и водопользование;

В.Н. Кровопускова, ст. преподаватель кафедры природопользование и водопользование;

Е.М. Байдаков, кандидат технических наук ст. преподаватель кафедры технологического оборудования животноводства и перерабатывающих производств).

Даны методические рекомендации к выполнению контрольных и расчетно-графических работ по курсу «Инженерная геодезия». Для студентов очной и заочной форм обучения.

Рецензенты: к.т.н., доцент Мельникова Е.А.
к.т.н., доцент Широбокова О.Е.

Рекомендованы научно-методическим советом БГСХА
Протокол № 18 от «11» января 2013 г.

© Байдакова Е.В., 2013

© Кровопускова В.Н., 2013

© Байдаков Е.М., 2013

© Брянская ГСХА., 2013

СОДЕРЖАНИЕ

ПОРЯДОК ИЗУЧЕНИЯ КУРСА	4
КОНТРОЛЬНАЯ РАБОТА	5
Задание 1	17
Задание 2	21
Задание 3	47
Задание 4	61

Порядок изучения курса

Перед выполнением контрольной работы студенту следует изучить предмет по рекомендуемой литературе с использованием методических указаний.

Объем и содержание курса определяются программой, которая должна быть выдана студенту одновременно с методическими указаниями.

Курс рекомендуется изучать в такой последовательности:

1. Ознакомиться с программой, методическими указаниями, содержанием учебниками дополнительной литературы.

2. Составить календарный план занятий, учитывая при этом свои знания по отдельным вопросам.

3. Перед проработкой каждой темы нужно внимательно прочитать соответствующий раздел программы и методических указаний, ознакомиться по учебнику с содержанием темы, а затем перейти к изучению материала: разработать все положения и выводы основных формул. Полезно законспектировать содержание каждой темы и ответить на вопросы для самопроверки, приведенные в методических указаниях.

После изучения соответствующего материала курса можно приступить к выполнению контрольной работы. По всем вопросам, в которых студент не может разработать самостоятельно, следует обращаться в университет на кафедру геодезии для получения соответствующих разъяснений и консультаций.

Выполненная контрольная работа высылается на кафедру для проверки. Зачтенная контрольная работа предъявляется преподавателю при сдаче экзамена.

Контрольная работа должна быть выполнена в отдельной тетради, на обложке которой указывается:

Контрольная работа по геодезии

Студента.....

Специальность.....

Шифр.....

Планы должны быть выполнены на ватмане, профили на миллиметровой бумаге и вклеены в тетрадь. Все чертежи выполняются тушью.

Во время экзаменационной сессии студент должен выполнить под руководством преподавателя лабораторные работы и прослушать лекции.

Перечень лабораторных работ

1. Изучение топографических карт. Задачи, решаемые по карте с горизонталями.
2. Измерение площадей планиметром.
3. Изучение устройства нивелиров. Измерение превышений.
4. Изучение устройства теодолитов. Измерение горизонтальных и вертикальных углов.
5. Изучение устройства мензулы и кипрегеля.
6. Работа с аэрофотоснимками.
7. Работа с геодезическими электронными приборами (светодальномерами электронными тахеометрами).

Студента допускаются к сдаче экзамена только после сдачи контрольной работы, выполнения лабораторных работ и прослушивания лекций.

Литература

Основная

1. Булгаков Н.П., Рывина Е.М., Федотов Г.А. Прикладная геодезия – М: Недра, 1990

2. Стороженко А.Ф., Некрасов О.К.. Инженерная геодезия. – М: Недра 1993

3. Фельдман В.Д., Михеев Д.Ш. Основы инженерной геодезии. – М: Высшая школа, 2001

Дополнительная

4. Условные знаки для топографических планов масштабов 1:5000, 1:2000, 1:1000, 1:500. – М.:Недра. 1973

Методические советы по разделам курса.

Введение

При изучении введения необходимо получить четкое представление о том, что изучает геодезия, ее научных и практических задачах, ее связях с другими науками.

Литература: 1, §1; 2, §1-3.

Вопросы для самопроверки

1. Что изучает геодезия?
2. Краткие исторические сведения о развитии геодезии.

Сведения о форме и размерах Земли.

Изображение поверхности Земли на планах и картах

При изучении этого раздела следует обратить внимание на понятия: уровенная, поверхность, геоид, эллипсоид вращения, азимуты, дирекционные углы и румбы. Разобрать вывод формул связи между дирекционными углами и румбами. Ознакомиться с Балтийской системой высот: абсолютные, относительные, условные высоты.

Литература: 1, §2; 2, §3, 5, 7, 9, 10 §1, 2, 4, 5.

Вопросы для самопроверки

1. Что называют уровенной поверхностью? Что подразумевается под общей фигурой Земли?
2. Какую форму и размеры имеет Земля?
3. Абсолютная и относительная отметки точки.
4. Географические координаты точки – широта и долгота.
5. Местная и зональная систем прямоугольных, координат, применяемые в геодезии.
6. Азимуты, дирекционные углы, румбы.

Топографические планы и карты.

Вычисление площадей

Вначале необходимо уяснить, что такое масштаб, графическая точность и точность масштаба; научиться пользоваться масштабной линейкой. Надо хорошо усвоить, в чем заключается различие между планом и картой.

Изучая условные знаки, следует ознакомиться с масштабными и пояснительными условными знаками.

Необходимо знать обозначения основных видов сельскохозяйственных угодий и почвенно-растительного покрова (пашни, выгоны, луга, огороды, леса, кустарники, болота и т.п.), основных элементов гидрографии (реки, озера, каналы), населенных пунктов и путей сообщения, границ. Изучить способы изображения рельефа на картах и планах. При этом основное внимание должно быть уделено изучению свойств горизонталей и изображению отдельных форм рельефа горизонталями.

Следует разобрать задачи, решаемые по карте с горизонталями, уметь определять отметку точки, намечать границу водосборной площади, строить профиль вдоль заданного направления, вычислять между двумя точками на карте. Необходимо рассмотреть различные способы определения площадей на

плане (карте), случаи их применения, точность. Рекомендуется изучить устройство полярного планиметра и методику измерения им площадей.

Литература: **1**, § 17-32; **2**, §11, 12, 14, 15, **3**, § 7,8,9,10,11,13.

Вопросы для самопроверки

1. Что такое масштаб? Численные и графические масштабы. Что такое графическая точность и точность масштаба?
2. Проанализируйте основные различия между планом и картой.
3. Какими условными знаками изображаются границы угодий, пашня, лег, лес, кустарник, болото, озеро, каналы, пути сообщения и населенные пункты?
4. Что называется горизонталью, высотой сечения рельефа, заложением?
5. Как изображаются горизонталями основные формы рельефа: гора, котловина, хребет, лощина, седловина? Что такое линия водораздела и тальвег?
6. Что понимают под водосборной площадью и как наметить ее границу на карте с горизонталями?
7. Как определить уклон между двумя точками на карте?
8. Какие Вы знаете способы определения площадей на планах и картах? Какова точность каждого способа?
9. Как устроен полярный планиметр? Как и для чего определяют цену деления планиметра?
10. Какова методика измерения площадей полярным планиметром.

Понятия о геодезических сетях

Изучая вопросы, связанные с плановыми геодезическими сетями, необходимо понять методы создания планового геодезического обоснования (триангуляция, полигонометрия, трилатерация). Необходимо уметь решать прямую и обратную геодезические задачи. Изучая высотную геодезическую сеть, понять метод геометрического и тригонометрического нивелирования.

Литература: **1**, § 48-51, 55; **2**, § 40, 41,58-60,**3**, § 42-44.

Вопросы для самопроверки

1. Что такое геодезические плановые и высотные сети, каково их назначение, виды и классификация?
2. Какие измерения производят в триангуляции, трилатерации, полигонометрии и в нивелировании?
3. Вывести формулы для решения прямой геодезической задачи.
4. Вывести формулы для решения обратной геодезической задачи.

Оценка точности результатов геодезических измерений

При любых измерениях возникают ошибки. Для того чтобы учитывать ошибки, сводить к возможному минимуму их влияние на результаты измерений и оценивать точность полученного результата, необходимо в первую очередь изучить причины возникновения, виды и свойства ошибок.

Следует разобрать, какие измерения считают равноточными и неравноточными.

При изучении равноточных измерений необходимо обратить внимание на формулы определения арифметической середины, средней квадратической ошибки отдельных измерений и вероятнейшего значения.

Литература: **1**, §18-20, **2**, §17-23, **3**, §17,18,19,20.

Вопросы для самопроверки

1. Какие измерения называются равноточными, неравноточными?
2. Какие ошибки в измерениях называют грубыми, систематическими и случайными?
3. Как обнаружить грубую ошибку в измерениях?
4. Как исключить из результата измерений систематическую ошибку?
5. Какими свойствами обладают случайные ошибки?
6. По каким формулам определяют среднюю квадратическую ошибку одного измерения?

7. Как определить вероятнейшее значение измеренной величины при равноточных измерениях?

8. Как определить среднюю квадратическую ошибку вероятнейшего значения?

Измерение длин линий

Ознакомившись с содержанием работы по подготовке к измерению длины линии на местности, следует изучить мерные приборы для непосредственного измерения расстояний (стальные ленты, рулетки и др.) Установить, от чего зависит точность измерения расстояний. Необходимо усвоить формулы определения поправки за наклонно линий.

Следует ознакомиться с общими принципами измерения расстояний световыми и радиодальномерами.

Литература: **1**, § 32-37, **2**, § 31-39, **3**, § 21, **22**.

Вопросы для самопроверки

1. Как и с какой точностью производят измерение расстояний на местности стальной рулеткой?
2. Для чего производят компарирование рулеток?
3. Что такое горизонтальное проложение и как его вычисляют?
4. Как измерить расстояние при помощи нитяного дальномера?
5. Что такое коэффициент нитяного дальномера и как его определить в полевых условиях?
6. С какой точностью определяют расстояния нитяным дальномером?

Измерение углов

Для измерения горизонтальных углов применяют прибор, называемый теодолитом. Пользуясь прибором и описанием его в учебнике, необходимо изучить основные части теодолита (горизонтальный круг, зрительную трубу, уро-

вень, вертикальный круг) и их назначение, а также отсчетные приспособления в теодолитах.

Изучить способы измерения горизонтальных углов, углов наклона и порядок записей в журнале.

Литература: **1**, § 23-28, **2**, § 24-30, **3**, § 28-31

Вопросы для самопроверки

1. Перечислите основные части оси теодолита.
2. Методика измерения горизонтальных углов. Полевой контроль при измерении горизонтальных углов.
3. Методика измерения вертикальных углов. Полевой контроль.

Нивелирование

Нивелирование – это вид геодезических измерений, служащих для определения превышений между точками на местности и вычисления затем высот этих точек.

Изучая эту тему, надо уяснить методы нивелирования и их сущность (геометрическое, тригонометрическое, физическое, механическое и др.). Необходимо обратить внимание на следующие вопросы приборы, применяемые при нивелировании III и IV классов, привязка к реперам и маркам, передача отметок через водные пространства, обработка результатов нивелирования.

Наиболее важным вопросом темы является техническое нивелирование.

Нивелирование трас линейных сооружений. Разбивка пикетажа, поперечников, главных точек кривой, заполнение пикетажной книжки. Нивелирование связующих точек, контроль нивелирования на станции, привязка к реперам и маркам, ведение журнала нивелирования и вычисление отметок точек, составление профилей.

Нивелирование поверхности по квадратам, по магистралям.

Литература: **1**, § 38-45, **2**, § 40-50, **3**, § 23-27.

Вопросы для самопроверки

1. Различные методы нивелирования: геометрический, тригонометрический, физический, механический.
2. В чем заключаются способы геометрического нивелирования «из середины» и «вперед»? Каковы преимущества способа «из середины»?
3. Вывести формулу для определения превышения при тригонометрическом нивелировании, если известно горизонтальное проложение, а визирную ось трубы наводили на высоту на рейке.
4. Вывести формулу для определения превышения при тригонометрическом нивелировании, если визирную ось трубы наводили на высоту прибора, а расстояние измеряли нитяным дальномером.
5. Какие существуют классы нивелирования и какова их точность.
6. Привязка нивелирных ходов к реперам и маркам.
7. Какие нивелиры применяют при техническом нивелировании, нивелировании III и IV классов?
8. Как производят передачу отметок через водные преграды?
9. Как разбивают пикетаж при продольном нивелировании трассы? Что такое пикетажный журнал?
10. Какие точки называют пикетными, иксовыми, плюсовыми и как производят их нивелирование?
11. Как вычисляют превышения между связующими точками?
12. Как определяют невязку в превышениях разомкнутого или замкнутого нивелирного хода, как проверяют ее допустимость и распределяют поправки?
13. Как вычисляют отметки связующих точек?
14. Как и для чего вычисляют горизонт нивелира?
15. Как вычисляют отметки плюсовых точек и точек поперечников?
16. Как строят продольный профиль и поперечники?
17. Что такое «тангенс», «кривая», «домер», и «биссектриса» кривых? Как определяют положение основных точек кривой?

18. Как нивелируют поверхность по квадратам? Как уравнивают превышения и вычисляют отметки?

19. Как стоят план с горизонталями по результатам нивелирования по квадратам?

Построение сетей планового геодезического обоснования

Необходимо иметь четкое представление о назначении и видах плановых сетей сгущения, иметь понятие о полигонометрии 4 класса и сетях сгущения 1 и 2 разряда.

Необходимо изучить назначение и виды сетей планового съемочного обоснования (теодолитные ходы, засечки и т.д.)

Следует вывести формулы для решения прямой и обратной геодезической задачи.

Изучая камеральные работы при вычислении координат точек теодолитного хода, необходимо обратить внимание на следующие вопросы: определение угловых невязок, вычисление дирекционных углов, приращений координат и координат точек теодолитного хода. Построение координатной сетки и нанесение точек теодолитного хода на план.

Литература: **1**, § 54-60, **2**, § 56-60, **3**, § 32,33.

Вопросы для самоопределения

1. Какими приборами, как и с какой точностью, измеряют углы в сетях сгущения 2 разряда?

2. Какими приборами, как и с какой точностью, измеряют базисы в сетях сгущения 3 разряда?

3. Какие существуют виды планового съемочного обоснования?

4. Какие полевые работы производят при создании съемочного обоснования методов проложения теодолитных ходов?

5. Как осуществляют привязку съемочных сетей к пунктам геодезического обоснования?
6. Как определяют угловые невязки в замкнутом и разомкнутом теодолитных ходах?
7. По каким формулам вычисляют дирекционные углы сторон теодолитного хода?
8. По каким формулам вычисляют приращения координат?
9. Как вычисляют невязки в приращениях координат в замкнутом и разомкнутом теодолитных ходах, как проверяют их допустимость и распределяют поправки? Как вычисляют координаты точек?
10. Как производят накладку точек по координатам на план?

Топографические съемки

Вначале следует ознакомиться со способами топографической съемки методами полярных координат, перпендикуляров линейных и угловых засечек, обхода.

При изучении тахеометрической съемки необходимо, в первую очередь, разобрать формулу для определения превышений, как влияют кривизна Земли и рефракция земной атмосферы на определяемые превышения. Надо ознакомиться с порядком прокладки съемочных ходов, со съемкой ситуации и рельефа, с ведением и обработкой тахеометрического журнала и составлением плана.

Изучая мензурную съемку, надо ознакомиться с устройством применяемых приборов, их поверками, порядком проведения съемки. Понять, при каких условиях местности превышения определяют горизонтальным лучом визирования.

При изучении фототопографической съемки следует обратить внимание на использование для целей природоохранного строительства как фототеодолитной, так и аэрофотографической съемки. Здесь необходимо обратить внимание на следующие вопросы: составление накидного фотоплана, монтаж фото-

планов, фототриангуляция, привязка аэроснимков, дешифрирование аэроснимков, изготовление контурных планов.

Литература: 1, § 61-91; 2, § 64-82; 3, § 45-50.

Вопросы для самопроверки

1. В чем заключаются способы съемки: перпендикуляров, полярных координат, засечек, обхода?
2. Какова организация работ при тахеометрической съемке?
3. Какие виды съемочного обоснования применяют при тахеометрической съемке?
4. Как снимают ситуацию и рельеф при тахеометрической съемке? Как и для чего составляют абрис?
5. Какими формулами и таблицами пользуются при определении превышений при тахеометрической съемке?
6. В чем заключается сущность мензульной съемки?
7. Как производят поверки мензулы и кирегеля?
8. Какими способами создаются съемочные сети при мензульной съемке?
9. Как приводят мензулу на станции в рабочее положение и как производят съемку местности?
10. Чем отличается аэроснимок от плана?
11. Какими свойствами обладает аэроснимок?
12. Для чего и как производят привязку аэроснимков к геодезической опорной сети?

Инженерно-геодезические работы

В этой теме изучают геодезические работы, применяемые при изысканиях, строительстве и эксплуатации инженерных сооружений и систем. Основными вопросами темы являются следующие построение плановых и высотных опорных геодезических сетей, съемка рек, озер и каналов. Разбивочные работы. Геодезические наблюдения за деформациями сооружений.

Литература: **1**, §92-99; **2**, §91-104; **3**, §51-58.

Вопросы для самопроверки

1. Какими способами и для чего производят сгущение геодезического обоснование при перенесении проектов инженерных сооружений в натуру?
2. В чем заключается метод графического определения координат точек?
3. Какие способы применяют для плановой разбивки сооружений на местности?
4. Как составляется разбивочный чертеж?
5. Как вынести в натуру проектную линию, проектный угол и проектную отметку?
6. Как нужно трассировать на местности линию с заданным уклоном при помощи нивелира и теодолита?

ЗАДАНИЕ 1

МАСШТАБЫ

Задание 1 состоит из решения двух задач

Номер варианта соответствует последней цифре шифра. Для решения задачи 1 вариант выбирается из таблицы 1, для решения задачи 2 из таблицы 2

ЗАДАЧА 1

Пользуясь численным масштабом отложить на тетрадном листе заданные расстояния.

ПРИМЕР. Отложить расстояние 127,5 м в масштабе 1:10000.

Одному сантиметру на плане (карте) масштаба 1:10000 соответствует 10000 см (или 100м) на местности. Следовательно, расстояние 127,5 м на местности соответствует расстояние на бумаге равное $127,5:100 = 1,28$ (см). Это расстояние откладывают на листе плотной бумаги.

Задание оформляют так, как показано на рисунке 1 .

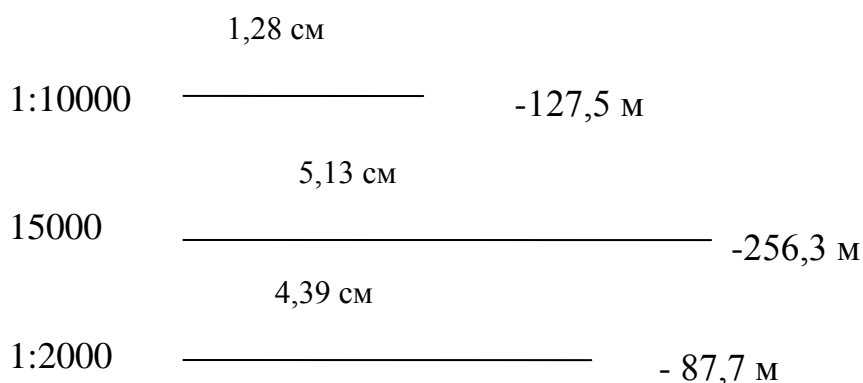


Рис.1. Откладывание расстояний при помощи численного масштаба.

ЗАДАЧА 2

Построить поперечный масштаб (рис.2) и отложить на нем отрезки линий в различных масштабах.

На листе плотной бумаги (чертежной) построить прямоугольник размером 12 см x 2,5см.. Боковые стороны AC и BD прямоугольника разделить на 10 равных частей и соединить горизонтальными линиями. На больших сторонах AB и CD этого прямоугольника отложить двухсантиметровые отрезки (основание масштаба) Крайние левые отрезки AO И CN разделить на 10 равных частей. Каждое из этих делений называется малым и имеет длину 0,2мм. Верхние отрезки соединить трансверсалиями с нижними (как показано на рис.2). Полученный в результате такого построения наименьший отрезок PQ, имеющий длину 0,2мм, называют наименьшим делением поперечного масштаба.



Рис. 2. Поперечный масштаб

Практическая точность откладывания расстояний по такому масштабу равна половине наименьшего деления, т.е. 0,1 мм.

ПРИМЕР 1. Отложить на масштабе 1:50000 расстояние 284,6м.

В этом случае 1 см на плане соответствует 50м на местности, а так как в основании масштаба 2 см, то одно основание соответствует 100м малое деле-

ние 10м, наименьшее -1м, а точность масштаба 0,5м. Берем измерителем два основания (200м), затем левую иглу оставляем влево на 8 малых делений (80м) и перемещаем измеритель вверх на 4,5 деления (4,5м). При этом левая игла должна перемещаться по трансверсали, а правая – по вертикале и обе иглы должны оказаться на одном уровне. На рисунке 2 данному расстоянию соответствует отрезок LL₁.

ПРИМЕР 2. Отложить в масштабе 1: 2000 расстояние 96,8м.

Рассчитаем элементы масштаба. Так как в этом случае 1 см на бумаге соответствует 20м на местности, то основание поперечного масштаба соответствует 40м, малое деление – 4м, а наименьшее – 0,4 м. Следовательно, поднимаясь на одно деление вверх будем увеличивать длину отрезка линии на 0,4 м. Точность масштаба равна 0,2 м, т.е. при откладывании расстояний в этом масштабе все размеры можно округлять до четных десятых (0,2;0,4;0,6;0,8; и тд.) Берем измерителем два основания (80м), остается 16,8 м. Отодвигаем левую иглу на 4 малых деления (16м), остается 0,8м. Перемещаем обе иглы вверх на 2 деления (0,8м) Таким образом данному расстоянию 96,8м на рис.2 соответствует отрезок MM₁.

Таблица 1

Масштабы	Варианты									
	0	1	2	3	4	5	6	7	8	9
1:25000	470,5	580,6	695,6	736,8	841,5	645,6	829,2	714,8	736,1	938,9
1: 500	15,1	21,8	20,8	41,3	52,6	31,6	29,0	23,6	29,1	18,5
1: 1000	45,6	38,4	59,5	61,2	72,4	75,9	84,5	92,1	39,6	54,8

Таблица 2

Масштабы	Варианты									
	0	1	2	3	4	5	6	7	8	9
1:25000	148,48	127,78	83,92	77,91	122,31	179,82	86,12	156,26	78,06	129,10
1: 500	157,56	374,27	226,38	326,32	258,23	129,24	149,82	182,78	135,45	246,52
1: 1000	328,44	245,42	549,22	516,45	436,24	702,10	532,26	275,44	585,72	282,26

Контрольные вопросы к задаче 1-2.

1. Какие знаете виды масштабов?
2. Как с помощью линейного и поперечного масштабов определить длину линии?
3. Какие две задачи решают с помощью численного масштаба?
4. Зависит ли длина отрезка на плане от его масштаба?
5. Что такое топографический план?
6. Что такое карта? В чем ее сходство и различие с планом?
7. Что такое масштаб, и как он выражается?
8. Что называют точностью масштаба, и как ее определяют?
9. Для чего нужна номенклатура карт и планов?
10. Что называют высотой сечения рельефа?
11. Какими свойствами обладают горизонтали?
12. Как определить уклон либо угол наклона по масштабу заложений?
13. Почему в одних случаях применяют масштабные условные знаки, а в других – внемасштабные?
14. Как измерить на карте дирекционный угол линии?

ЗАДАНИЕ 2

ПРОДОЛЬНОЕ НИВЕЛИРОВАНИЕ

Задание состоит из трех частей и заключается в следующем:

1. По результатам измерений, приведенных в журнале продольного нивелирования, вычислить отметки всех пронивелированных точек
2. На основании данных, обработанного журнала, построить продольный профиль трассы и поперечник.
3. Провести проектную линию на профиле, вычислить проектные и рабочие отметки, определить расстояние до точек нулевых работ.

Вариант журнала технического нивелирования выбирается из таблицы 3. Отметки исходных реперов R_{p1} и R_{p2} выбираются из табл.4 по последним двум цифрам, шифра. Румб начального направления, пикетажное значение угла поворота, пикетажное значение точки, на которой разбит поперечник, уклоны проектной линии, данные для разбивки кривой выбираются из табл.5 также по двум последним цифрам шифра. Пикетажный журнал для всех вариантов приведен на рис. 8.

При продольном нивелировании на линии хода разбивают пикетаж, т.е. на местности намечают и закрепляют через каждые 100м точки, называемые пикетами. Если превышение между пикетами больше 3 м, то на местности закрепляют дополнительные точки, которые называются исковыми.

Если скат между соседними пикетами имеет перегибы, то между пикетами в характерных местах рельефа намечают точки, которые называются плюсовыми. После закрепления точек на линии хода приступают к их нивелированию.

По пикетам и исковым точкам прокладывают нивелирный ход. Каждую пару смежных пикетов нивелируют по способу «из середины» по двум сторонам реек. Плюсовые точки нивелируют только по рабочей (черной) стороне рейки.

Все отсчеты по рейкам, полученные во время нивелирования, записывают в соответствующие графы полевого журнала.

На рис.3 показана схема расположения нивелира и реек при нивелировании со станцией 1 и 2, а ниже приведен полевой журнал применительно к данному нивелирному ходу.

Обработка полевого журнала

Конечной целью обработки нивелирного журнала является получение отметок всех пронивелированных точек. Журнал продольного нивелирования обрабатывают в следующей последовательности.

Вычисление превышений между связующими точками (пикетными и иксовыми)

Так как пикетные точки нивелировались по способу «из середины», то превышение между ними вычисляются по формуле: $h = a - v$,

где h – превышение;

a – отсчет на заднюю рейку;

v – отсчет на переднюю рейку.

Полученные результаты записывают в 6-ю графу журнала. В приведенном примере на станции 1 превышение R_{p1} и ПК0 по отсчетам, взятым по рабочим (черным) сторонам реек, равно:

$$h_{ч} = 2451 \text{ мм} - 1172 \text{ мм} = + 1279 \text{ мм},$$

а по отсчетам, взятым по дополнительным (красным) сторонам реек, равно:

$$h_{кр.} = 7134 \text{ мм} - 5852 \text{ мм} + 1282 \text{ мм}$$

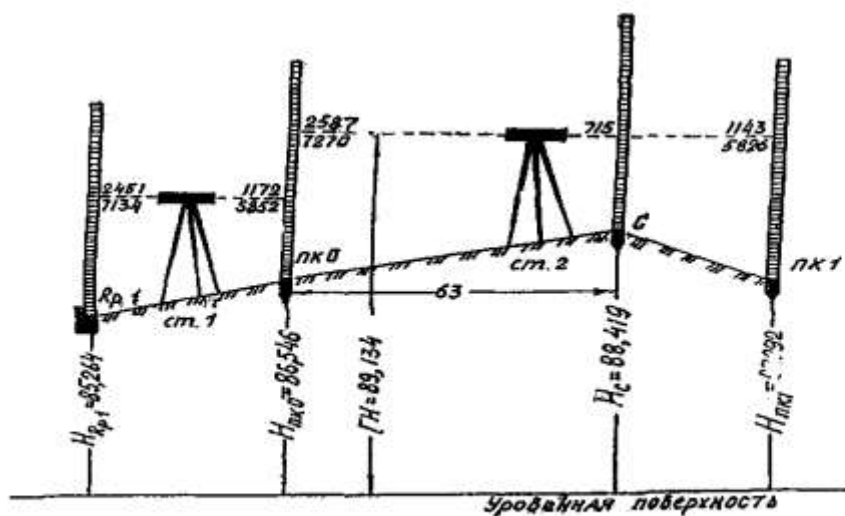


Рис. 3. Нивелирование на станциях 1 и 2

Журнал технического нивелирования

№№ станций	№№ пикетов, репров, прмеж. точек	Отсчеты по рейкам (мм)			Превышения h , мм	Ср.превышение h_{cp} , мм	Горизонт нивелира ГН, м	Отметки земли Н, м
		Задн., а	Перед. в	Промеж с				
1	2	3	4	5	6	7	8	9
1	Rp1	2451			+1279	+2		85,264
		7134			+1282	+1280		
	ПК0		1172			+1282		86,546
			5852					
2	ПК0	2587					89,133	86,546
		7270				+2		
	+63			715	+1444	+1444	89,134	88,419
	ПК1		1143		+1444	+1446	89,135	87,992
			5826					
3	ПК1	534				+2	88,526	87,992
		5217			-1442	-1441	88,528	
	ПК2		1976		-1440	-1439	88,529	86,553
			6657					
	Пр.12			2842				85,686
	Пр.20			1675				86,853
	Лв.6			1067				87,461
	Лв.20			2814				85,714
4	ПК2	483				+2		86,553
		5163			-2232	-2234		
	X		2715		-2237	-2232		84,321
			7400					
5	X	816				+2		84,321
		5499			-1705	-1706		
	ПК3		2521		-1707	-1704		82,617
			7206					
6	ПК3	2884				+3		82,617
		7566			+2073	+2074		
	Rp2		811		+2074	+2077		84,694
			5492					

$$\sum h_{cp.} = -5833 \text{ мм}$$

$$\sum h_{теор} = H_K - H_H = 84,694 \text{ м} - 85,264 \text{ м} = -0,570 \text{ м} = -570 \text{ мм}$$

$$\text{Невязка } f_h = \sum h_{cp.} - \sum h_{теор.} = -583 \text{ мм} - (-570 \text{ мм}) = -13 \text{ мм}$$

$$L = 0,5 \text{ (км)}$$

$$\text{Пред. } f_h = 50 \text{ мм } \sqrt{L} = \pm 35 \text{ мм}$$

Расхождение в полученных превышениях, определенных по черной и красной сторонам реек, допускается не более 5 мм. Так как в нашем примере это расхождение ($1282 \text{ мм} - 1279 \text{ мм} = 3 \text{ мм}$) получилось допустимым, то по этим значениям вычисляют среднее арифметическое и записывают в графу 7, округляя до целых миллиметров.

Таким способом вычисляют превышения между пикетами на всех станциях.

Так как превышение между ПК2 и ПК3 больше высоты нивелирных реек (3м), определить величину этого превышения с одной станции невозможно. В таких случаях пикет нивелируют по частям, используя иксовую точку (рис.4.)

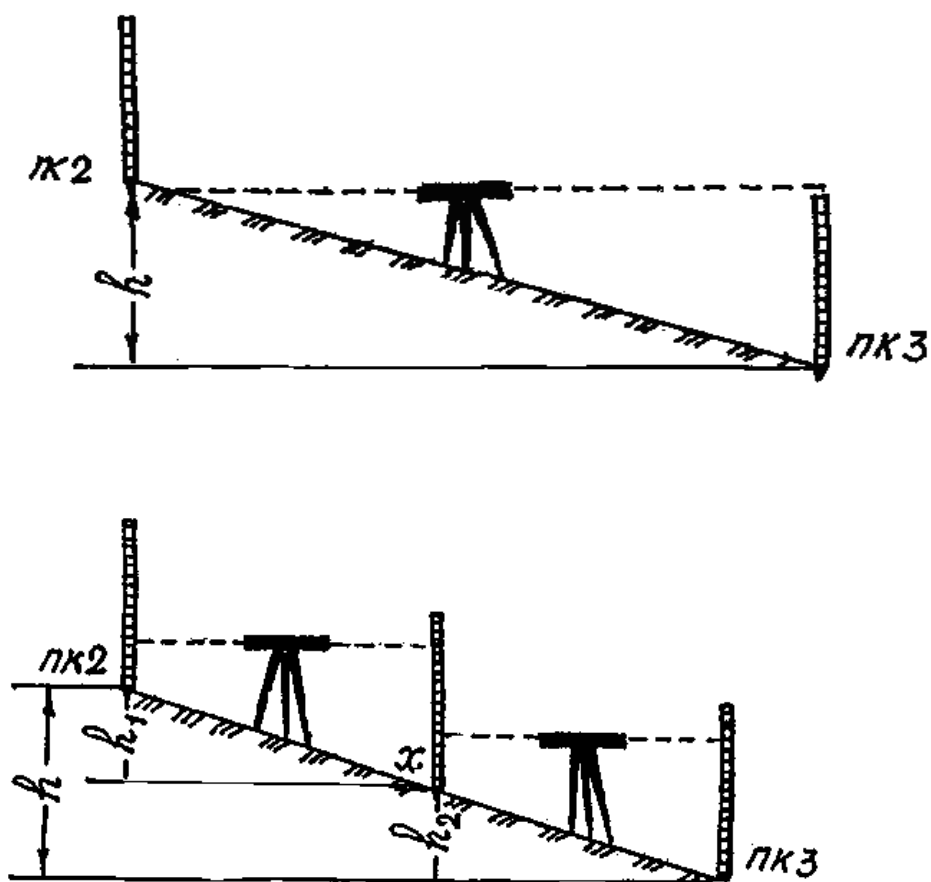


Рис. 4. Нивелирование на крутом склоне с использованием иксовой точки

Между ПК 2 и ПК 3 была взята точка, называемая X Станция 4 взята между ПК 2 и X, а станция 5 между X и ПК3. Иксовые точки нивелируют «из сере-

дины», как и пикетные. В процессе обработки журнала отметки иксовых точек вычисляют так же, как и пикетных.

Вычисление невязки в превышениях и ее распределение

Полученная алгебраическая сумма всех средних превышений теоретически должна быть равна разности отметок конечного и начального реперов. Практическая же вследствие ошибок в измерениях получается невязка, которая подсчитывается по формуле

$$f_h = \sum h_{cp.} - (H_k - H_H) - \text{ для разомкнутого хода}$$
$$f_h = \sum h_{cp.} - \text{ для замкнутого хода.}$$

В разбираемом примере невязка получилась равной

$$f_h = -583 \text{ мм} - (84694 \text{ мм} - 85264 \text{ мм}) = 13 \text{ мм}$$

Допустимость невязки проверяют по формуле.

$$\text{Пред. } f_h = 50 \text{ мм } \sqrt{L},$$

Где L – число километров в длине нивелирного хода.

В нашем примере L = 0,5 км и предельная невязка равна.

$$\text{Пред. } f_h = 50 \text{ мм } \sqrt{0,5} = \pm 35 \text{ мм}$$

Полученная невязка 13 мм по абсолютной величине меньше предельной 35 мм, следовательно, ее можно распределить в средние превышения в виде поправок. Невязку распределяют по возможности равными долями по всем превышениям, округляя до целых миллиметров. Сумма всех поправок должна быть равна величине невязки, взятой с обратным знаком.

Полученные поправки подписывают красным цветом над каждым средним превышением со знаком, обратным знаку невязки. Для получения исправлен-

ных превышений к вычисленным средним превышениям алгебраически прибавляют поправки и записывают под средними превышениями в графе 7.

Вычисление отметок связующих точек

Отметки связующих точек вычисляют последовательно (графа 9) от известной отметки начального репера по формуле $H_n = H_{n-1} + h$, т.е. отметка последующей точки равна отметке предыдущей точки плюс исправленное превышение между этими точками. В разбираемом примере исходная отметка

Rp1 равна 85,264 м, тогда отметка ПК 0 равна :

$$H_{\text{ПК0}} = H_{\text{Rp1-ПК0}}$$

$$H_{\text{ПК0}} = 85,264 \text{ м} + 1,282 \text{ м} = 85,546 \text{ м};$$

Отметка ПК 1 равна:

$$H_{\text{ПК1}} = H_{\text{ПК0}} + h_{\text{ПК0-ПК1}}$$

$$H_{\text{ПК1}} = 85,546 \text{ м} + 1,446 \text{ м} = 87,992 \text{ м};$$

Отметка ПК 2 равна:

$$H_{\text{ПК2}} = H_{\text{ПК1}} + h_{\text{ПК1-ПК2}}$$

$$H_{\text{ПК2}} = 87,992 \text{ м} - 1,439 \text{ м} = 86,553 \text{ м};$$

Отметка точки x равна:

$$H_x = H_{\text{ПК2}} + h_{\text{ПК2-x}}$$

$$H_x = 86,553 \text{ м} - 2,232 \text{ м} = 84,321 \text{ м};$$

Отметка ПК 3 равна:

$$H_{\text{ПК3}} = H_x + h_{\text{x-ПК3}}$$

$$H_{\text{ПК3}} = 84,321 \text{ м} - 1,704 \text{ м} = 82,617 \text{ м}.$$

Следует помнить, что отметки записывают в метрах, а вычисленные в журнале превышения необходимо выражать в метрах.

Контролем правильности вычисления отметки конечного репера, вычисленной по исправленным превышениям. В рассматриваемом примере:

$$H_{Rp2} = H_{ПК3} + h = 82,617 \text{ м} + 2,077 \text{ м} = 84,694 \text{ м};$$

следовательно, вычисления выполнены правильно.

Вычисление отметок промежуточных точек

(плюсовых и точек поперечников)

Отметки этих точек определяют через горизонт нивелира.

Горизонтом нивелира называют высоту луча визирования над уровенной поверхностью или отметку луча визирования.

На рис.5 видно, что горизонт нивелира равен:

$$\Gamma H = H_a + a, \quad \Gamma H = H_b + b,$$

Где H_a – отметка задней связующей точки;

a – отсчет по рабочей (черной) стороне рейки, стоящей на задней точке;

H_b – отметка передней связующей точки;

b – отсчет по рабочей (черной) стороне рейки, стоящей на передней точке.

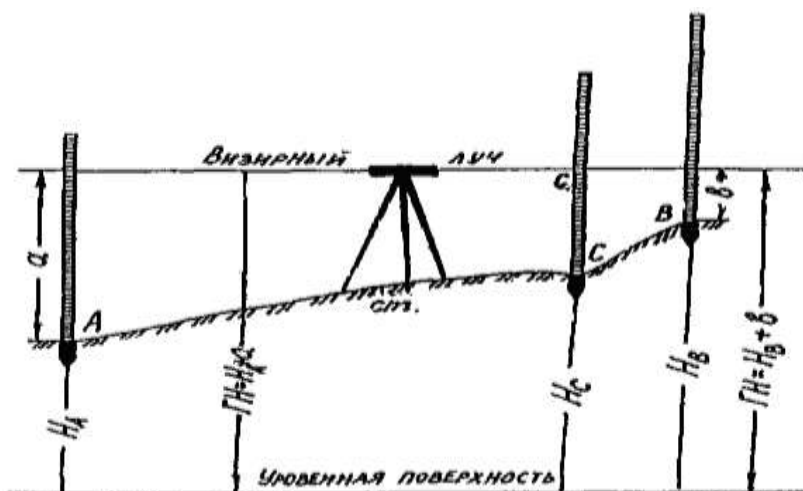


Рис. 5. Определение отметок промежуточных точек через горизонт нивелира

Отметка плюсовой точки С равна

$$H_c = \Gamma H - c,$$

где c - отсчет по рабочей стороне рейки, стоящей на данной, плюсовой точке.

Графу 8 нивелирного журнала заполняют только для тех станций, на которых нивелировались промежуточные точки. На станции 2 горизонт нивелира равен:

$$\Gamma H_2 = 86,546 \text{ м} + 2,587 \text{ м} = 89,133 \text{ м}$$

$$\Gamma H_2 = 87,992 \text{ м} + 1,143 \text{ м} + 89,135 \text{ м}$$

Полученные дважды значения ΓH не должны отличаться больше, чем на 5 мм. Для вычисления промежуточных точек можно взять любое значение ΓH из двух вычисленных или их среднее значение: $\Gamma H_{\text{ср.}} + 89,134 \text{ м}$.

Отметка плюсовой точки ПКО + 62 определена как разность между вычисленным горизонтом и отсчетом по рейке плюсовую точку, т.е.

$$H_{\text{ПКО+62}} + 89,134 \text{ м} - 0,175 \text{ м} = 88,419 \text{ м}.$$

Аналогично в графе 9 нивелирного журнала вычисляют отметки всех остальных плюсовых точек.

Чтобы выяснить характер рельефа местности, прилегающей к оси нивелирного хода, нивелируют поперечники. Точки поперечников нивелируют также, как плюсовые точки один раз по рабочей стороне реек.

В разбираемом примере поперечник был разбит на ПК 2 и пронивелирован со станции 3. На пикете ПК 2 перпендикулярно оси нивелирного хода в характерных местах рельефа были насечены точки, расстояния до которых от ПК 2 измерены рулеткой. После того, как со станции 3 произведено нивелирование ПК 1 и ПК 2, были сделаны отсчеты по рейкам на точки поперечника, которые записаны в графу 5 нивелирного журнала. На точке, расположенной вправо от

оси нивелирного хода на 12 м (Пр. 12), был получен отсчет 2842 (см. нивелирного журнала), на точке вправо от оси на 20м (Пр 20) – 1675, на точке расположенной влево на 6 м (Лв 6) – 1067 и влево на 20 м (Лв 20) – 2814

Горизонт нивелира на этой станции равен:

$$\text{ГН}_3 = 87,992 \text{ м} + 0,534 \text{ м} = 88,626 \text{ м};$$

$$\text{ГН}_3 = 86,553 \text{ м} + 1,976 \text{ м} = 88,529 \text{ м};$$

$$\text{ГН}_{\text{ср.}} = 88,528 \text{ м};$$

Отметка точки Пр 12 равна

$$\text{Н}_{\text{Пр}12} = 88,528 \text{ м} - 2,842 \text{ м} = 85,686 \text{ м};$$

Отметка точки Пр 20 равна

$$\text{Н}_{\text{Пр}20} = 88,528 \text{ м} - 1,675 \text{ м} = 86,853 \text{ м};$$

Отметка точки Лв 6 равна

$$\text{Н}_{\text{Лв}6} = 88,528 \text{ м} - 1,067 \text{ м} = 87,461 \text{ м};$$

Отметка точки Лв 20 равна

$$\text{Н}_{\text{Лв}20} = 88,528 \text{ м} - 2,814 \text{ м} = 85,714 \text{ м}$$

Построение продольного профиля

После вычисления отметок всех привелирированных точек приступают к построению продольного профиля и поперечников.

Профиль строят на миллиметровой бумаге. Для построения профиля надо в принятом масштабе для горизонтальных линий отложить все горизонтальные расстояния между привелирированными точками, а в вертикальном направлении – все отметки этих точек в масштабе для вертикальной линий.

Для выполнения контрольной работы рекомендуется взять масштабы: для горизонтальных линий 1 : 2000, для вертикальных линий 1 : 600

Профиль строят в следующем порядке.

Вычерчивают карандашом профильную сетку. Профильная сетка.

Уклоны	1 см.
Проектные отметки	1,5 см.
Отметки земли	1,5 см
Расстояния	1 см.
Пикеты	1 см
Длина прямых и данные для кривых	2 см
План	2см

Рис. 6. Профильная сетка

Профильная сетка состоит из ряда горизонтальных линий и имеет различные графы. Для данной работы рекомендуется расположение граф и их размеры взять согласно рис.6

Верхнюю линию профильной сетки (т.е. верхнюю линию графы «Уклоны проектной линии») следует совместить с одной из утолщенных линий на миллиметровой бумаге, а нижняя линия графы сетки должна отстоять от нижнего края листа на 4-5 см.

Заполняют графу «Расстояния». В этой графе откладывают в принятом масштабе горизонтальных линий расстояния между пикетными точками. В масштабе 1 : 2000 расстояния на профиле между соседними пикетами (100 м) будут изображены отрезками длиной 5 см. В промежутках между пикетами наносят в том же масштабе плюсовые точки и подписывают расстояние между

ними и соседними пикетными точками. Исковые точки на профиль не наносят. Затем по этой графой в графе «Пикеты» подписывают номера пикетов.

Заполняют графу «Отметки земли». В эту графу записывают из журнала вычисленные отметки пикетных и плюсовых точек с округлением их до сотых долей метра. Например, если вычисленная в журнале отметка ПКО равна 86,546 м, то на профиле нужно подписать 86,55.

Наносят пикетные и плюсовые точки по их отметкам. Для того чтобы профиль на бумаге не получился по высоте чрезмерно большим, принимают верхнюю линию профильной сетки (рис.7) за условный горизонт. Отметку условного горизонта обычно назначают в целых десятках метров, несколько меньше самой низкой точки на профиле.

Отметки всех точек откладывают от линии условного горизонта на вертикалях проведенных через эти точки, в выбранном масштабе вертикальных линий. Соединив по линейке полученные точки, получают профиль трассы.

Составляют план местности. План местности наносят в соответствии с пикетажным журналом (рис.8) в принятом для данного профиля масштабе для горизонтальных линий в соответствующей графе профильной сетки.

Заполняют графу «Длины прямых и данные для кривых». Прежде всего, нужно найти положение начала и конца кривой. Для этого должно быть известно положение угла поворота кривой (табл.5), величина угла поворота γ (табл. 5) и радиус закругления R . Пользуясь таблицами для разбивки кривых (см. табл.6), по аргументам γ и R находят величины: T (тангенс), K (кривая), B (биссектриса) и D (домер). В рассматриваемом примере $\gamma = 37^{\circ}20'$ и $R = 100$ м. В таблицах находим для угла $\gamma = 37^{\circ}20'$ и $R = 1000$ м величины T, K, D, B . Так как заданный радиус кривой равен 100 м, а не 1000 м, то все табличные значения надо уменьшить в 10 раз. Таким образом, для $\gamma = 37^{\circ}20'$ и $R = 100$ м получаем $T = 33,78$ м; $K = 65,16$ м; $B = 5,55$ м; $D = 2,41$ м.

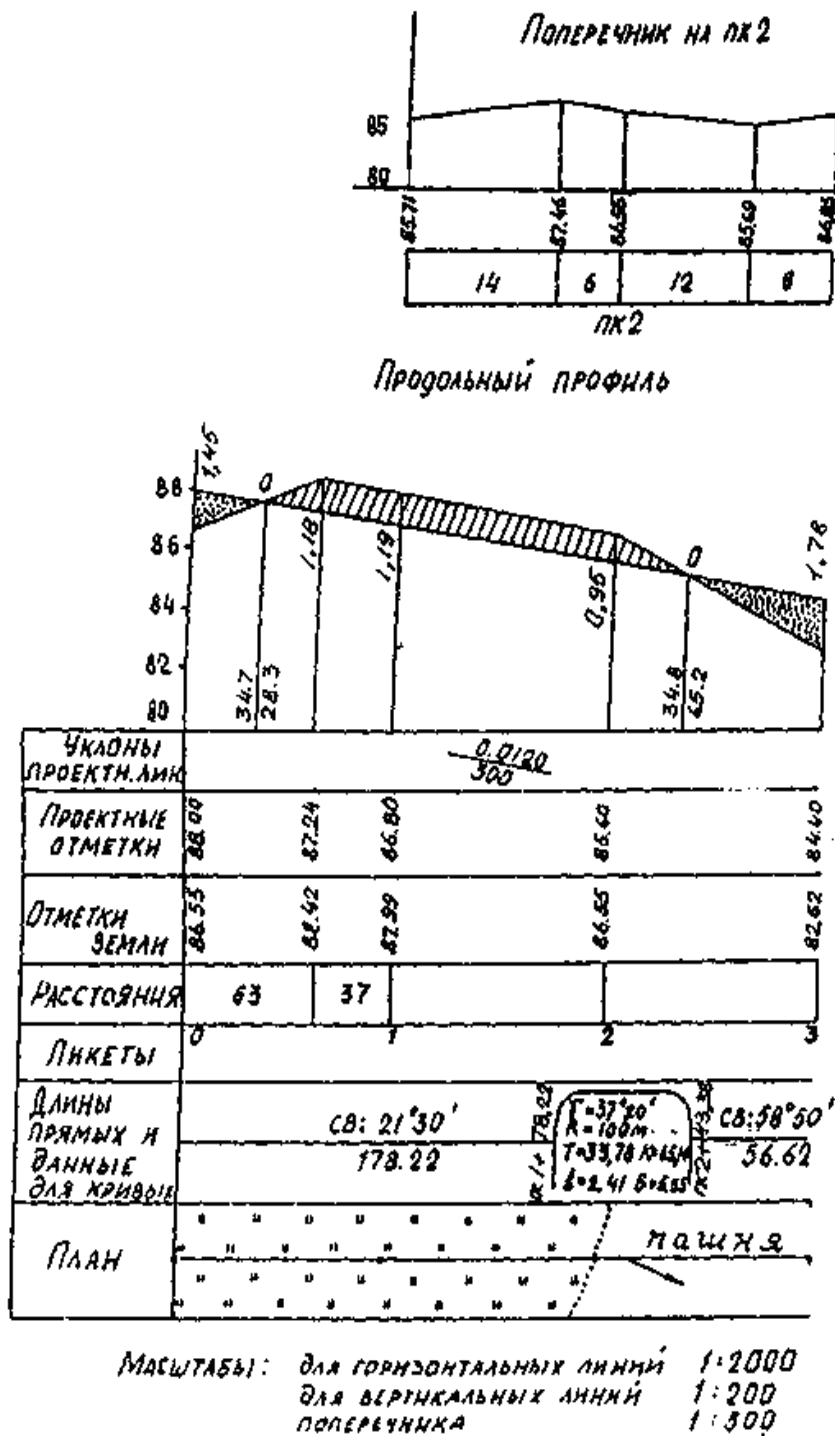


Рис. 7. Продольный профиль трассы

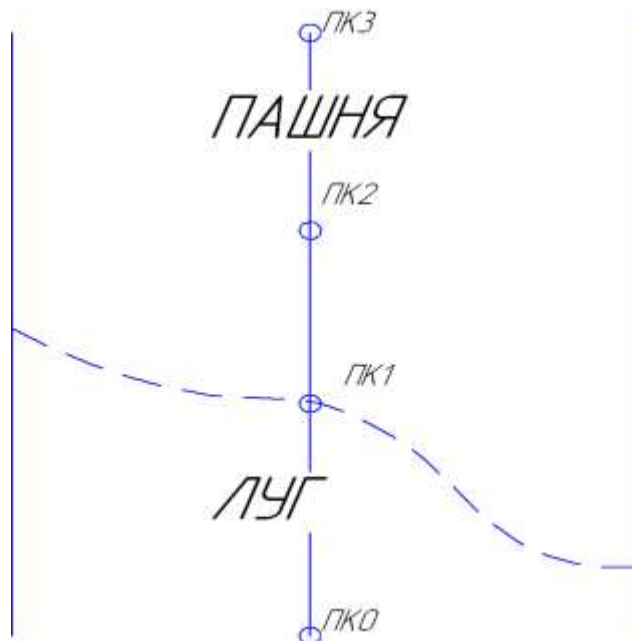


Рис. 8. Пикетажный журнал

Для определения положения начала и конца кривой делают следующие расчеты:

- выписывают расстояние до угла поворота ВУ = ПК 2 + 12,00
- вычитают тангенс $T = - 33,78$
- получают расстояние до начала кривой НК = ПК 1 + 78,22
- прибавляют длину кривой $+K = 65,16$
- получают расстояние до конца кривой КК = ПК 2 + 43,38

Расстояние до начала и конца кривой наносят в принятом для профиля масштабе горизонтальных линий в графу «Длины прямых и данные для кривых» и подписывают, как показано на рис.7

Если трасса повернуло влево, то выпуклость кривой направлена вниз и наоборот. Внутри кривой столбиком выписывают значения Т.К.Д.Б.

По расстояниям до начала и конца кривых вычисляют и подписывают длины прямых вставок между кривыми. Вычисляют и подписывают румбы прямых вставок. Так в нашем примере румб начального направления трассы равен СВ: $21^{\circ}30'$, а угол поворота трассы $37^{\circ}20'$, румб второй прямой будет иметь следующее значение: $21^{\circ}30' + 37^{\circ}20' = 58^{\circ}50'$, т.е. СВ: $58^{\circ}50'$.

Проведение проектной линии

На профиль наносят проектную линию. Для этого необходимо вычислить и подписать отметки проектной линии в каждой из нанесенных на профиле точек в соответствующей графе профильной сетки. Исходными данными для вычисления проектных отметок являются: заданная проектная

Отметка начальной точки, проектные уклоны и направление (спуск или подъем) проектной линии (таблица 5).

Уклон линии равен тангенсу угла наклона этой линии или, как видно из рис.9, уклон – это отношение превышения к горизонтальному проложению линии, или $i = \operatorname{tg} V = h/d$,

где i – продольный уклон проектной линии АВ;

V – угол наклона линии АВ к горизонту;

h – превышение между точками А и В;

d – горизонтальное проложение линии АВ.

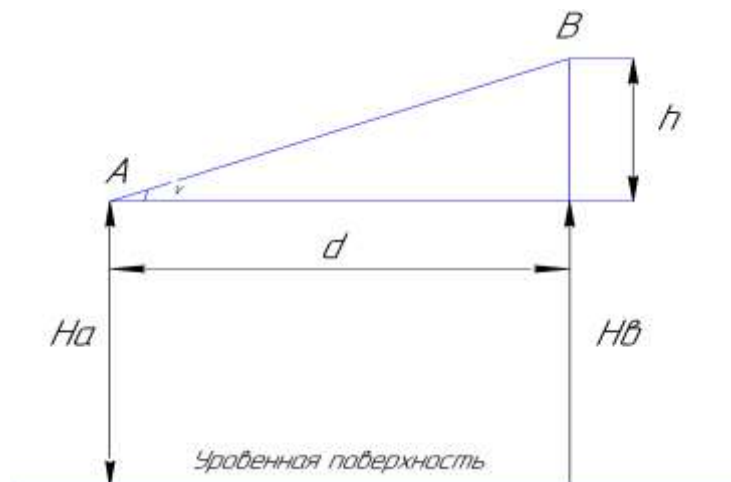


Рис. 9. Вычисление отметок проектной линии

Если известен уклон i и горизонтальное проложение, то превышение между точками А и В равно

$$h = i \times d$$

Следовательно, если отметка точки А известна, то отметку точки В вычисляют как

$$H_B = H_A \pm h \text{ или } H_B = H_A \pm i \times d,$$

Т.е. проектная отметка следующей точки равна, проектной отметке данной точки плюс или минус произведение проектного уклона на горизонтальное проложение линии между этими точками. Знак плюс берут в случае, если проектная линия идет с подъемом, а знак минус, если она имеет спуск.

В основу выбора уклонов отдельных участков проектной линии и ее начальной отметки должны быть положены следующие соображения:

- 1) проектная линия должна проведена так, чтобы объем земляных работ был минимальным;
- 2) объем земляных работ по выемкам и по насыпям должен быть, по возможности, одинаковым, чтобы земли из выемок можно было использовать для насыпей;
- 3) уклоны, выбранные для проектной линии должны быть в пределах величин, рекомендуемых техническими условиями для данного сооружения.

В данной работе уклоны проектной линии и начальная отметка намечаются по заданию (табл.5). Заданные уклоны выписывают на профиле в графу «Уклоны» В этой графе число, стоящее над чертой, выражает уклон, а число под чертой показывает длину участка, на котором проектная линия проведена с указанным уклоном. Наклон черты, разделяющий эти два числа, указывает на подъем или спуск проектной линии на данном участке.

В рассматриваемом примере (рис.7) проектная линия от ПК0 на участке 300 м имеет спуск с уклоном 0,012; исходная проектная отметка нулевого пикета принята 88,00 м.

Проектные отметки пикетных и плюсовых точек вычисляют следующим образом:

$$H_{\text{ПК}0+63} = H_{\text{ПК}0} - I \times d = 88,00 \text{ м} - 0,012 \times 63 \text{ м} = 87,24 \text{ м};$$

$$H_{\text{ПК}1} = 88,00 \text{ м} - 0,012 \times 100 \text{ м} = 86,80 \text{ м};$$

$$H_{\text{ПК2}} = 86,80 \text{ м} - 0,012 \times 100 \text{ м} = 85,60 \text{ м};$$

$$H_{\text{ПК3}} = 85,60 \text{ м} - 0,012 \times 100 \text{ м} = 84,40 \text{ м};$$

Вычисленные таким образом отметки подписывают на профиле в графе « Проектные отметки» против соответствующих им точек.

Отметки точек проектной линии откладывают от условного горизонта в масштабе 1:2000 также, как и отметки земли.

Определяют рабочие отметки. Высоты насыпей и глубины выемок на данных точках профиля называют рабочими отметками.

Рабочие отметки вычисляют как разность между проектной отметкой земли одной и той же точки.

Рабочие отметки выписывают около проектной линии на вертикалях соответствующих им точек в случае насыпи – над проектной линией, а в случае выемки – под проектной линией.

В рассматриваемом примере высота насыпи на ПК0 получилась равной $88,00 \text{ м} - 86,55 \text{ м} = 1,45 \text{ м}$, а глубина выемки на ПК0 + 63 равна $88,42 \text{ м} - 87,24 \text{ м} = 1,18 \text{ м}$.

Определяют положение точек нулевых работ. Точками нулевых работ на профиле называют такие точки, в которых рабочие отметки равны нулю.

Знание точного положения точек нулевых работ на профиле имеет большое значение при строительстве сооружения и при подсчете объемов земляных работ, а поэтому его определяют аналитическим образом.

Пусть требуется определить расстояние d от точки O до точки M , нанесенной на профиле (рис.10).

Здесь AB – проектная линия

MN – линия земной поверхности;

M и N – ближайшие точки на профиле, между которыми расположена искомая точка нулевых работ;

D - расстояние между точками M и N ;

A и B – рабочие отметки в точках M и N

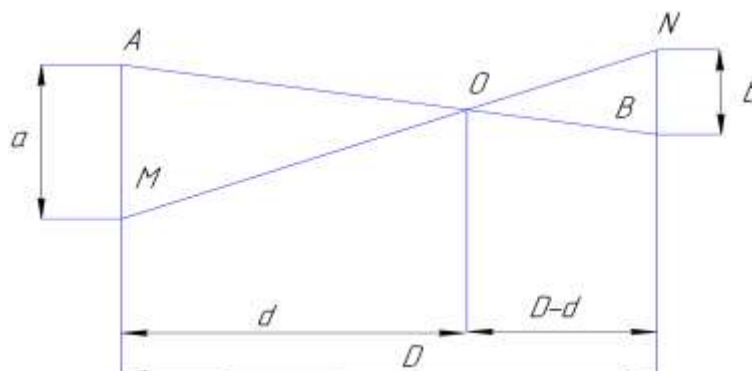


Рис. 10. Определение местоположения точек нулевых работ

Из подобия треугольников AOM и BON имеем

$$\frac{d}{D-d} = \frac{a}{b}, \text{ откуда } d = \frac{D}{a+b} a, D-d = \frac{D}{a+b} b;$$

Так, в приведенном примере расстояние от точки нулевых работ до ПКО и ПКО + 63 будут равны:

$$d = \frac{63}{1,45 + 1,18} \times 1,45 = 34,7 \text{ м};$$

$$D - d = \frac{63}{1,45 + 1,18} \times 1,18 = 28,3 \text{ м}.$$

На профиле над точкой нулевых работ выписывают нуль. От этой точки вниз до условного горизонта проводят линию. Справа и слева от этой линии выписывают вычисленные расстояния d и $D-d$.

Построение поперечников

Поперечники вычерчивают так же, как и профиль, по отметкам точек и расстояниям между ними, только масштабы для горизонтальных линий принимают одинаковыми.

Над точкой продольного профиля, на которой был взят данный поперечник, прочерчивают ось поперечника (рис.7) Графы профильной сетки для поперечника берут такие, как на рис.7. От оси поперечника откладывают в масштабе

горизонтальные расстояния до привелированных точек (в разбираемом примере от оси вправо отложены 12 и 20 м, а в лево 6 и 20м) и подписывают расстояние между этими точками.

Над полученными точками подписывают их отметки, взятые из нивелированного журнала, и откладывают их в том же масштабе от принятого для поперечника условного горизонта.

Оформление профиля (рис. 7)

1. Красной тушью вычерчивают проектную линию и надписывают ее уклоны проектные и рабочие отметки.

2. Точки нулевых работ, расстояния, указывающие их положение на профиле, надписывают зеленой тушью.

3. Все остальное вычерчивают черной тушью.

4. Насыпи раскрашивают красной краской (или карандашом), а выемки желтой.

5. Внизу под продольным профилем указывают масштабы.

Таблица 3

00-09

10-19

N станц	N пикета Расст, м	Отчеты по рейке			N станц.	N пикета Расст, м	Отчеты по рейке		
		Задн.,	Перед.	промеж			Задн.,	Перед.	промеж
1	Rp 1	549			1	Rp 1	1596		
		5230					6276		
	ПК 0		1723			ПК 0		808	
			6407					5490	
2	ПК 0	2936			2	ПК 0	2265		
		7618					6939		
	X		284			ПК 1		897	
			4966					5577	
3	X	2393			2	Пр 10,3			2315
		7073				Пр 20			1587
	ПК 1		555			Лв 7,6			849
			5236			Лв 20			708
4	ПК 1	2947			3	ПК 1	1068		
		7630					5748		
	+ 36			456		+ 36			747
	ПК 2		1843			ПК 2		2723	
			6524					7406	
5	ПК 2	2356			4	ПК 2	420		
		7039					5100		
	ПК 3		422			X		2636	
			5104					7320	
	Пр 8,2			412	5	X	248		
	Пр 20			245			4926		
	Лв 12,7			1398		ПК 3		2842	
	Лв 20			867				7524	
6	ПК 3	796			6	ПК 2	736		
		5476					5418		
	Rp 2		2156			Rp 2		1925	
			6839					6605	

20-29

30-39

N станц	N пикета	Отчеты по рейке			N станц.	N пикета	Отчеты по рейке		
		Расст, м	Задн.,	Перед.			промеж	Расст, м	Задн.,
1	Rp 1	816			1	Rp 1	2037		
		5499					6721		
	ПК 0		2810			ПК 0		830	
			7491					5512	
2	ПК 0	918			2	ПК 0	1553		
		5602					6238		
	+74			2176		+34			1287
	ПК 1		1781			ПК 1		1812	
			6462					6492	
3	ПК 1	2663			3	ПК 1	681		
		7348					5363		
	ПК 2		451			X		2675	
			5134					7356	
	Пр 13,6			1593	4	X	718		
	Пр 20			1840			5402		
	Лв 8,7			787		ПК 2		2598	
	Лв 20			2415				7280	
4	ПК 2	2718			5	ПК 2	485		
		7403					5170		
	X		1248			ПК 3		2319	
			5931					7000	
5	X	2782			5	Пр 8,6			1617
		7466				Пр 20			785
	ПК 3		283			Лв 9,3			1953
			4967			Лв 20			2460
6	ПК 3	2623			6	ПК 3	1412		
		7303					6093		
	Rp 2		443			Rp 2		1018	
			5125					5702	

40-49

50-59

N ста нц	N пикета	Отчеты по рейке			N станц.	N пикета	Отчеты по рейке		
		Расст, м	Задн.,	Перед.			промеж	Расст, м	Задн.,
1	Rp 1	966			1	Rp 1	1442		
		5649					6124		
	ПК 0		1662			ПК 0		1960	
			6343					6645	
2	ПК 0	2612			2	ПК 0	234		
		7296					4917		
	X		888			ПК 1		2395	
			5588					7079	
3	X	2721			3	Пр 7,8			916
		7401				Пр 20			2147
	ПК 1		990			Лв 12,3			1954
			5871			Лв 20			2819
4	ПК 1	712			3	ПК 1	1154		
		5395					5835		
	+ 68			1518		+26			1847
	ПК 2		1956			ПК 2		1220	
		6636				5903			
5	ПК 2	474			4	ПК 2	2384		
		5156					7067		
	ПК 3		2836			X		802	
			7540					5483	
	Пр 6,8			1215	5	X	2752		
	Пр 20			2496			7435		
	Лв 12,6			785		ПК 3		220	
	Лв 20			447				4901	
6	ПК 3	593			6	ПК 3	1960		
		5277					6641		
	Rp 2		1846			Rp 2		1342	
			6530					6027	

60-69

70-79

N ста нц	N пикета	Отчеты по рейке			N станц.	N пикета	Отчеты по рейке		
		Расст, м	Задн.,	Перед.			промеж	Расст, м	Задн.,
1	Rp 1	1217			1	Rp 1	683		
		5898					5388		
	ПК 0		1424			ПК 0		476	
			6104					5159	
2	ПК 0	255			2	ПК 0	284		
		4938					2964		
	ПК 1		2880			X		1938	
			7560				6618		
	Пр 7,4			2717	3	X	555		
	Пр 20			1673			5241		
	Лв 9,6			2561		ПК 1		2393	
Лв 20			1216				7075		
3	ПК 1	556			4	ПК 1	549		
		5239					5230		
	+32			1841		+62			2348
	ПК 2		266			ПК 2		1724	
		4948				8408			
4	ПК 2	1938			5	ПК 2	2047		
		6618					6730		
	X		284			ПК 3		845	
			4964					5528	
5	X	2393			Пр 8,4			814	
		7076			Пр 20			482	
	ПК 3		555		Лв 6,8			1366	
			5238		Лв 20			281	
6	ПК 3	549			6	ПК 3	2156		
		5229					6838		
	Rp 2		1723			Rp 2		791	
			6403					5473	

80-89

90-99

N ста нц	N пикета	Отчеты по рейке			N станц.	N пикета	Отчеты по рейке		
		Расст, м	Задн.,	Перед.			промеж	Расст, м	Задн.,
1	Rp 1	729			1	Rp 1	1669		
		5413					6347		
	ПК 0		862			ПК 0		1223	
			5543					5903	
2	ПК 0	1986			2	ПК 0	1178		
		6671					5858		
	+68			2873		ПК 1		1811	
	ПК 1		1864					6493	
3			6545		Пр 4,6			2816	
	ПК 1	2875			Пр 20			1960	
		7560			Лв 16,3			1847	
	X		1272		Лв 20			535	
4			5962		3	ПК 1	2124		
	X	2921					6804		
		7602				+ 58			1042
	ПК 2		785			ПК 2		924	
5			5470				5606		
	ПК 2	1136			4	ПК 2	504		
		5819					5184		
	ПК 3		955			X		2945	
			6837					7628	
	Пр 6,2			2345	5	X	212		
	Пр 20			267			4892		
	Лв 10,4			963		ПК 3		2998	
Лв 20			612				7678		
6	ПК 3	615			6	ПК 3	1202		
		5297					5883		
	Rp 2		2166			Rp 2		1250	
			6846						

Отметки (м) реперов 1 и 2

Таблица 4

Десятки	Единицы							
	0		1		2		3	
	Rp1	Rp 2	Rp 1	Rp 2	Rp 1	Rp 2	Rp 1	Rp 2
0	84,141	89,147	83.882	88.888	82.840	87.846	81.769	86.775
1	95,380	89.834	93.545	88.019	92.663	87.137	91.574	86.048
2	84,234	89.758	82.831	88.353	81.759	87.281	81.293	86.815
3	93,738	89.383	92.569	88.194	91.974	87.699	90.587	86.192
4	91,608	89.476	90.570	88.443	89.620	87.488	88.775	86.643
5	87,942	89.941	86.988	88.987	85.911	87.910	84.287	86.266
6	89,837	89.398	88.532	88.293	87.959	87.720	87.174	86.935
7	91,187	89.280	90.638	88.731	88.909	87.002	88.228	86.322
8	86,683	89.062	86.183	88.562	85.292	87.671	84.141	86.520
9	93,939	89.659	92.950	88.670	91.676	87.396	90.737	86.457

Продолжение таблицы 4

Десятки	Единицы					
	4		5		6	
	Rp1	Rp 2	Rp 1	Rp 2	Rp 1	Rp 2
0	80.866	85.872	79.193	84.190	76.399	83.405
1	90.564	85.038	90.400	84.904	88.504	83.008
2	80.131	85.653	78.869	84.361	78.434	83.926
3	89.487	85.112	88.559	84.184	88.123	83.771
4	87.581	85.449	86.341	84.239	86.053	83.951
5	83.268	85.267	82.656	84.655	81.260	83.279
6	85.246	85.007	85.107	84.898	83.900	83.691
7	87.840	85.933	86.298	84.421	85.261	83.384
8	83.192	85.571	82.225	84.574	81.209	83.558
9	90.015	85.735	88.255	84.005	88.015	83.765

Продолжение таблицы 4

Десятки	Единицы					
	7		8		9	
	Rp1	Rp 2	Rp 1	Rp 2	Rp 1	Rp 2
0	77.158	82.142	76.027	81.033	75.836	80.832
1	87.626	82.125	87.087	81.585	85.507	80.011
2	77.002	82.494	76.282	81.754	74.584	80.086
3	86.929	82.574	88.028	81.680	84.942	80.580
4	84.699	82.597	83.318	81.214	82.428	80.324
5	80.017	82.016	79.149	81.148	78.107	80.108
6	82.268	82.059	81.627	81.418	80.836	80.627
7	84.554	82.877	83.813	81.936	82.360	80.483
8	79.964	82.313	79.329	81.678	78.632	80.981
9	87.078	82.828	86.102	81.652	84.467	80.217

Таблица 5

№ варианта	Румб Нач.напр хода	Пикетаж угла поворота	Угол поворота	Поперечник разбит	Проект отметка ПКО	Уклоны проектной линии	
00-09	СВ: 14°30′	ПК 1+20	36°00′ вправо	ПК 2	H ₀ +2,20	+0,019	Подъем
10-19	СВ: 82°00′	ПК 1+30	36°00′ влево	ПК 1	H ₀ +1,30	- 0,013	Спуск
20-29	СВ: 85°20′	ПК 1+40	36°00′ вправо	ПК 1	H ₀ -1,30	+0,016	Подъем
30-39	ЮВ: 10°00′	ПК 1+50	36°00′ влево	ПК 2	H ₀ +1,20	+ 0,021	Спуск
40-49	ЮВ: 70°15′	ПК 1+66	36°00′ вправо	ПК 2	H ₀ +2,050	+ 0,004	Спуск
50-59	ЮВ: 84°30′	ПК 1+70	36°00′ влево	ПКО	H ₀ -2,09	+ 0,005	Подъем
60-69	ЮЗ: 60°20′	ПК 1+80	36°00′ вправо	ПКО	H ₀ – 1,080	- 0,004	Подъем
70-79	ЮЗ: 30°00′	ПК 1+90	36°00′ влево	ПК 2	H ₀ – 0,10	- 0,017	Спуск
80-89	СЭ: 54°40′	ПК 2+10	36°00′ вправо	ПК 2	H ₀ – 0,20	+ 0,012	Подъем
90-99	СЭ: 62°30′	ПК 2+30	36°00′ влево	ПКО	H ₀ + 0,40	- 0,009	Спуск

Таблица 6

Угол поворота	Радиус 1000			
	Тангенс Т, м	Кривая К.,м	Домер Д= 2Т-К, м	Биссектриса Б,м
36°00′	324,920	628,319	21,521	51,462
10′	326,528	631,227	21,829	51,960
20′	328,139	634,136	22,142	52,462
30′	329,750	637,045	22,455	52,965
40′	331,364	639,954	22,774	53,471
50′	332,979	642,863	23,095	53,980
37°00′	334,595	645,772	23,418	54,492
10′	336,213	648,681	23,745	55,007
20′	337,833	651,590	24,076	55,524
30′	339,454	654,499	24,409	56,042

Контрольные вопросы для задачи 2

1. Какие существуют методы нивелирования?
2. В чем сущность геометрического нивелирования?
3. В чем преимущества нивелирования из середины?
4. Какое различие между высотой и горизонтом инструмента?
5. Как вычисляют отметки точек через горизонт инструмента?
6. Каково главное условие, которому должны удовлетворять нивелиры с цилиндрическими уровнями?
7. Каково назначение элевационного винта у нивелира НВ-3?
8. На чем основана работа компенсатора в самоустанавливающихся нивелирах?
9. Каковы источники погрешностей при геометрическом нивелировании?
10. Опишите порядок работы на станции при геометрическом нивелировании. Как осуществляется контроль нивелирования?
11. Как определяют невязки в замкнутом и разомкнутом нивелирных ходах?
12. В чем сущность тригонометрического нивелирования?
13. Для чего при тригонометрическом нивелировании стремятся визировать на отсчет, равный высоте инструмента?
14. В чем сущность барометрического, гидростатического, автоматического и аэронивелирования и какова их точность?

Задание 3

НИВЕЛИРОВАНИЕ ПОВЕРХНОСТИ ПО КВАДРАТАМ

Задание состоит из двух частей:

1. По журналу нивелирования поверхности по квадратам вычислить отметки всех пронивелированных точек.
2. На основании обработанного журнала составить план с горизонталями пронивелированного участка.

Номер варианта журнала принять по последней цифре шифра.

- журнал нивелирования поверхности по квадратам приведен в таблице 7;
- отметку репера 1 (Rp) необходимо взять из задания 2;
- стороны квадратов 40м x 40м, масштаб плана 1:1000, высота сечения рельефа 0,25м.

Нивелирование поверхности по квадратам производят на открытой местности со слабо выраженным рельефом. На участке разбивают сеть квадратов теодолитом и лентой. Стороны квадратов, в зависимости от масштаба, плана и высоты сечения рельефа могут иметь размеры 10м x 10м, 20м x 20м и 40м x 40м.

Вершины квадратов закрепляют деревянными колышками. Некоторые из вершин, принятые за связующие, закрепляют более тщательно. Один колышек забивают вровень с землей, а рядом устанавливают сторожок. Закрепленные таким образом точки являются связующими и составляют замкнутый ход. Если по близости имеется репер, то его включают в этот ход.

Связующие точки нивелируют способом "из середины" 2 раза по двум сторонам реек, а все остальные вершины нивелируют 1 раз без контроля, как промежуточные точки. Порядок работы на станции и вычисление отметок при нивелировании поверхности по квадратам показан на примере журнала, приведенного на рис.11.

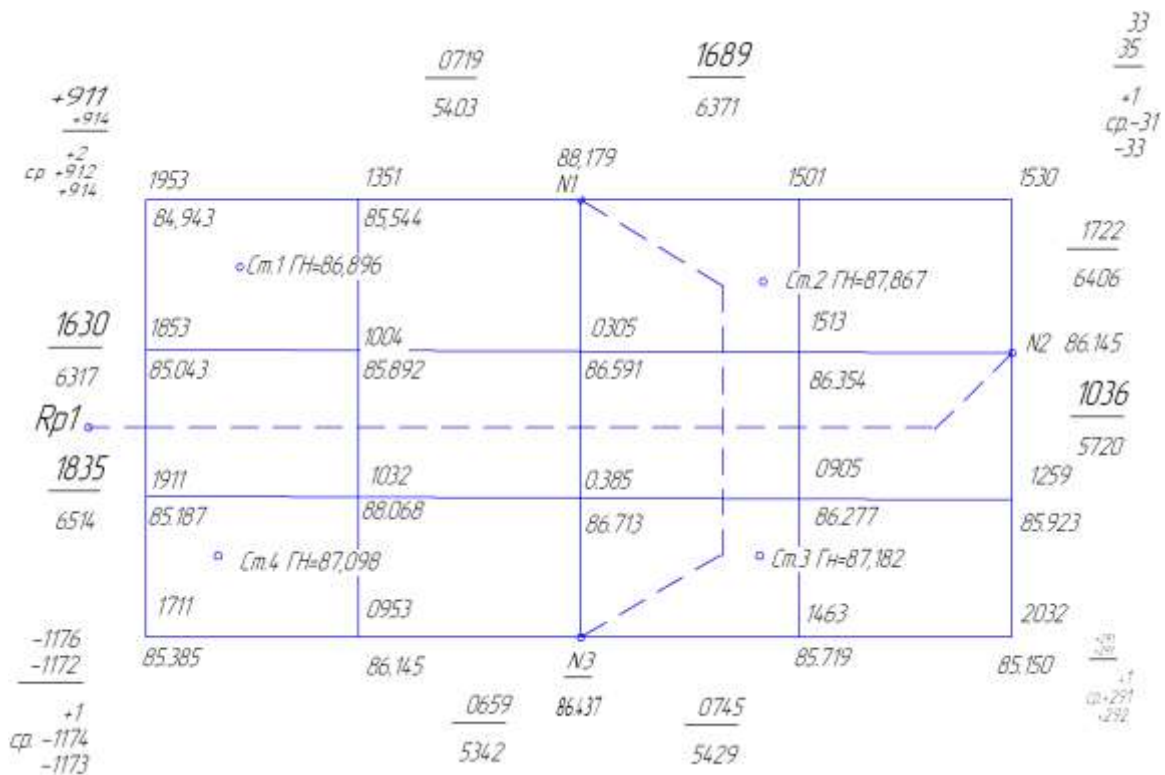


Рис. 11. Журнал нивелирования поверхности по квадратам

$$\sum h_{\text{ср}} = +912\text{мм} - 34\text{мм} + 291\text{мм} - 1174\text{мм} = -5\text{мм}$$

$$\sum h_{\text{теор}} = H_{\text{к}} - H_{\text{н}} = 0\text{мм}$$

$$f_h = \sum h_{\text{ср}} - \sum h_{\text{теор}} = -5\text{мм}$$

$$\text{Пред. } f_h = 10\text{мм} \sqrt{n} = 10\text{мм} \sqrt{4} = \pm 20\text{мм}$$

На сетке журнала связующие точки обозначены кружочками, а станции - квадратиками.

1. Устанавливают нивелир на станции 1, посередине между репером 1 (Rp1) и связующей точкой №1. Приводят его в рабочее положение и берут отсчеты по рабочей и дополнительной сторонам реек, которые установлены на задней (Rp1) и передней (№1) связующих точках.

2. Вычисляют превышение и производят контроль правильности взятия отсчетов. При нивелировании "Из середины" превышение равно разнице отсчетов на заднюю и переднюю точки $h = a - b$

$$h_{\text{ч}} = 1630\text{мм} - 719\text{мм} = +911\text{мм}$$

$$h_{\text{хр}} = 6317\text{мм} - 5403\text{мм} = +914\text{мм}$$

Так как расхождение в превышениях получилось допустимое (менее 5 мм), то находят среднее превышение, значение которого +913мм записывают на полях журнала между Rp1 и связующей точкой №1.

3. Нивелируют как промежуточные точки все другие вершины квадратов, видимые со станции 1. При этом рейку ставят на землю возле сторожка, отмечающего данную вершину, и берут один отсчет только по рабочей стороне рейки, который записывают в журнал около соответствующей вершины квадрата на схеме. Затем рейку ставят в другую вершину и получают отсчет и т.д. Так были получены отсчеты: 1953, 1352 и др.

Все точки, пронивелированные со станции 1, в журнале оконтуривают пунктиром и переходят на станцию 2.

После выполнения полевых работ приступают к камеральной обработке полученных материалов: вычисляют отметки всех пронивелированных вершин квадратов и вычерчивают план с горизонталями.

Вычисление отметок производят в следующей последовательности:

1. Вычисляют невязку в превышениях между связующими точками

$f_h = \sum h_{\text{ср}} - \sum h_{\text{теор}}$, проверяют ее допустимость и распределяют в средние превышения. Так как репер и связующие точки №1,2,и 3 образуют замкнутый ход, то теоретически алгебраическая сумма превышения в нем должна быть равна нулю ($\sum h_{\text{теор}} = H_k - H_n = 0\text{мм}$). Практически в силу ошибок в измерениях получается невязка.

В разбираемом примере невязка в превышениях между связующими точками равна $f_h = -5\text{мм} - 0\text{мм} = -5\text{мм}$.

Предельную невязку при нивелировании поверхности по квадратам подсчитывают по формуле: Пред. $f_h = \pm 10\text{мм} \sqrt{n}$, где n- число станций.

В нашем примере предельная невязка равна Пред. $f_h = 10\text{мм} \sqrt{4} = \pm 20\text{мм}$. Так как полученная невязка $f_h = -5\text{мм}$ меньше допустимой, то ее распределяют с обратным знаком во все средние превышения по возможности равными долями, округляя до целых мм. Сумма всех поправок должна быть равна величине невязке с обратным знаком.

Поправки записывают в журнале над значениями средних превышений, а исправленные превышения записывают ниже.

3. Вычисляют отметки всех связующих точек по общему правилу: отметка последующей точки равна отметке предыдущей точки плюс исправленное превышение. В разбираемом примере отметка репера дана $H_{Rp1}=85,264\text{м}$:

$$H_1 = 85,264\text{м} + 0,914\text{м} = 86,178\text{м}$$

$$H_2 = 86,178\text{м} - 0,033\text{м} = 86,145\text{м}$$

$$H_3 = 86,145\text{м} + 0,292\text{м} = 86,437\text{м}$$

$$H_{Rp1} = 86,437\text{м} - 1,173\text{м} = 85,264\text{м}$$

Если подсчет отметок связующих точек произведен правильно, то в конце получают исходную отметку репера.

3. Вычисляют отметки всех остальных вершин квадратов. Так как остальные вершины пронивелированы как промежуточные точки, то их отметки вычисляют через горизонт нивелира. Для каждой станции значение горизонта нивелира вычисляют (для контроля) дважды: по задней и по передней связующим точкам.

$$ГН = H_A + a \text{ и } ГН = H_B + b,$$

где H_A и H_B - отметки задней и передней точек;

a и b - отсчеты по рейкам на эти точки, взятые по рабочим сторонам реек.

Горизонт нивелира на станции 1, вычисленный по задней рейке, равен

$$ГН = 85,264\text{м} + 1,630\text{м} = 86,894\text{м}$$

а по передней рейке

$$ГН = 86,178\text{м} + 0,719\text{м} = 86,897\text{м}.$$

Так полученное расхождение в значениях горизонта нивелира меньше 5мм, то в журнал выписывают среднюю величину ГН = 86,896м. Так же вычисляют горизонт нивелира и для других станций.

Отметки промежуточных точек получают, вычитая из ГН отсчеты по рейке на эти точки по формуле $H_c = ГН - c$:

$$H_1 = 86,896м - 1,953м = 84,943м$$

$$H_2 = 86,896м - 1,352м = 85,544м \text{ и т.д.}$$

Все вычисленные отметки точек записывают в журнале возле соответствующих вершин квадратов под значением отсчета по рейке.

4. Проведение горизонталей. После вычисления отметок всех пронивелированных точек составляют план с горизонталями. На чертежной бумаге в масштабе 1:1000 строят сетку квадратов, около вершин которых выписывают из журнала отметки с округлением до 0,01м. Отметки горизонталей всегда кратны высоте сечения рельефа. При высоте сечения рельефа 0,25м горизонтали будут иметь отметки 85,00м; 85,25м; 85,50м; 85,75м и т.д. Положение точек с отметками горизонталей между точками с известными отметками на плане определяют графически - интерполированием с помощью палетки (рис12).

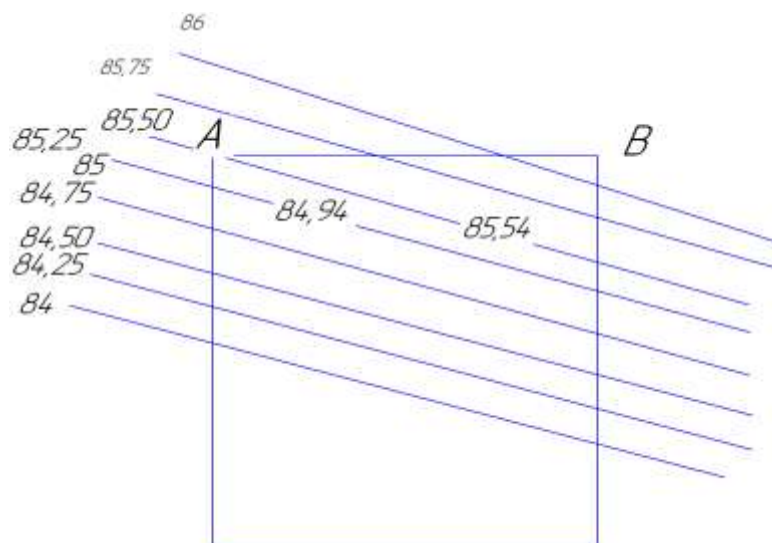


Рис. 12. Интерполирование горизонталей с помощью палетки

Палетка представляет собой ряд параллельных линий, проведенных на кальке через 5мм и с подписанными отметками горизонталей (рис.12). Палетку накладывают на план так, чтобы точка А заняла положение на ней, соответствующее своей отметке, и в таком положении палетку прикладывают к плану в точке А так, чтобы точка В разместилась на палетке также соответственно своей отметке. Прокалывая точки пересечения линии АВ на плане с линиями на палетке, получают точки с отметками горизонталей. Интерполированием получают точки, через которые пройдут горизонталы на всех сторонах квадратов, а иногда и на их диагоналях. Полученные таким образом точки с одинаковыми отметками соединяют карандашом одинаковыми линиями.

5. Построение графиков уклонов и углов наклона (рис.13). крутизна ската может быть выражена либо уклоном i , либо углом наклона v . Известно, что уклоном называют тангенс угла наклона этой линии. Если точки А и В лежат в соседних горизонталях, то

$$i = \operatorname{tg} V = \frac{h}{d},$$

где i - угол линии АВ

V - угол наклона

h - высота сечения рельефа

d - заложение (горизонтальное проложение между соседними горизонталями).

Тогда

$$d = \frac{h}{i} = h \times \operatorname{ctg} V.$$

График уклонов строят следующим образом. На вертикальной линии через равные промежутки (например, через 5 мм) проставляют значения уклонов, а на горизонтальных линиях против значений этих уклонов откладывают в масштабе плана заложение d , соответствующее этим уклонам и вычисленные по формуле

$$d = \frac{h}{a}$$

Например, для высоты сечения рельефа 0,25, принятого на плане,

$$d_1 = \frac{0,25}{0,01} = 25\text{м}$$

$$d_2 = \frac{0,25}{0,02} = 12,5\text{м.}$$

Полученные точки соединяют плавной кривой.

Если вместо уклонов откладывать по вертикали углы наклона V в градусах, а вычисление заложений производить по формуле $d = h \times \text{ctg } V$, то получим график углов наклона.

6. Оформление плана. Вершины квадратов обозначают черными точками и справа подписывают их отметки черной тушью. Горизонтали и бергштрихи вычерчивают тонко коричневой тушью; метровые горизонтали надо утолстить и подписать их отметки так, чтобы низ цифр был направлен в сторону понижения рельефа. Внизу указывают масштаб плана, высоту сечения рельефа и строят графики уклонов и углов наклона.

Образец выполненной работы показан на рис.13.

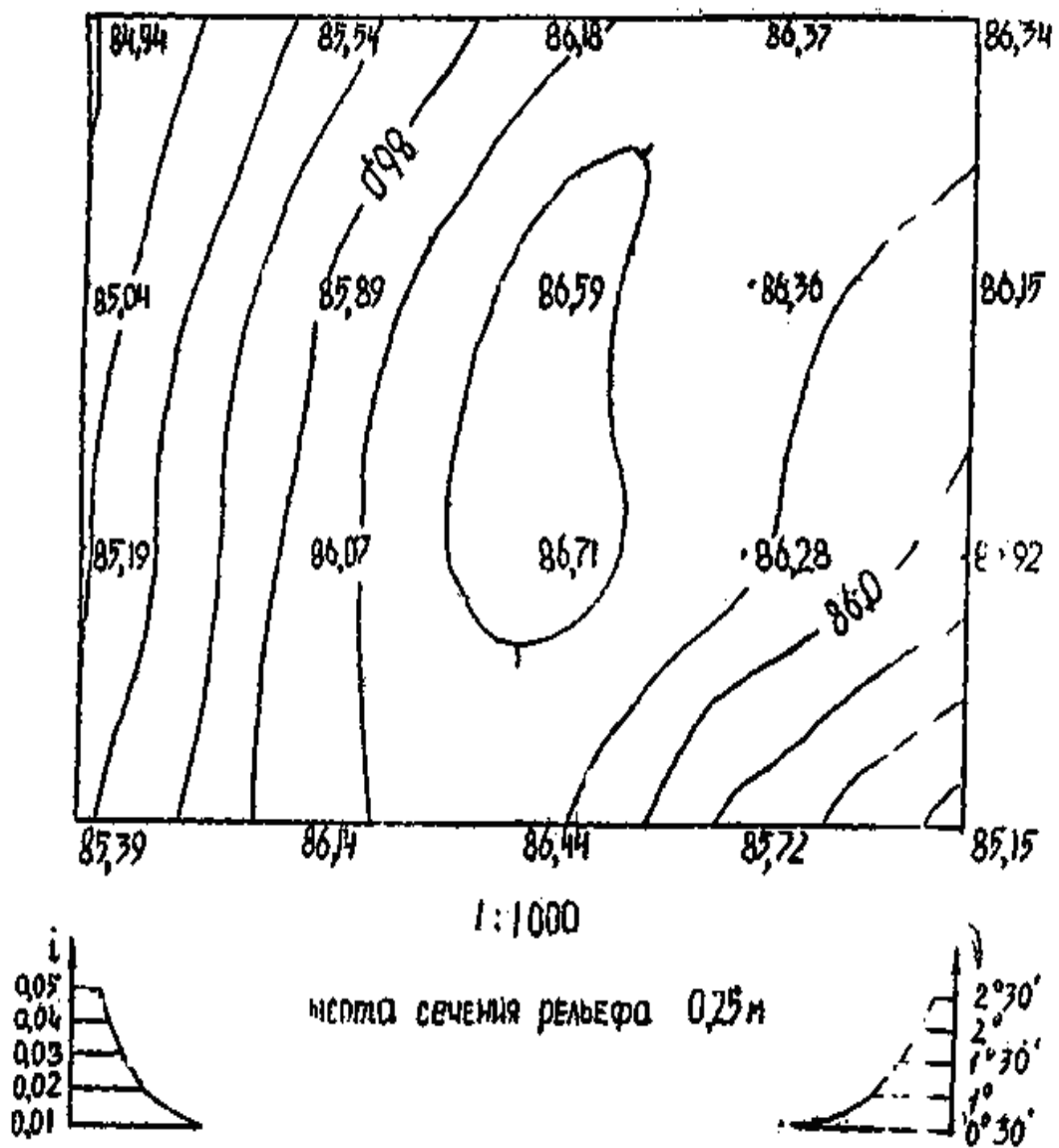
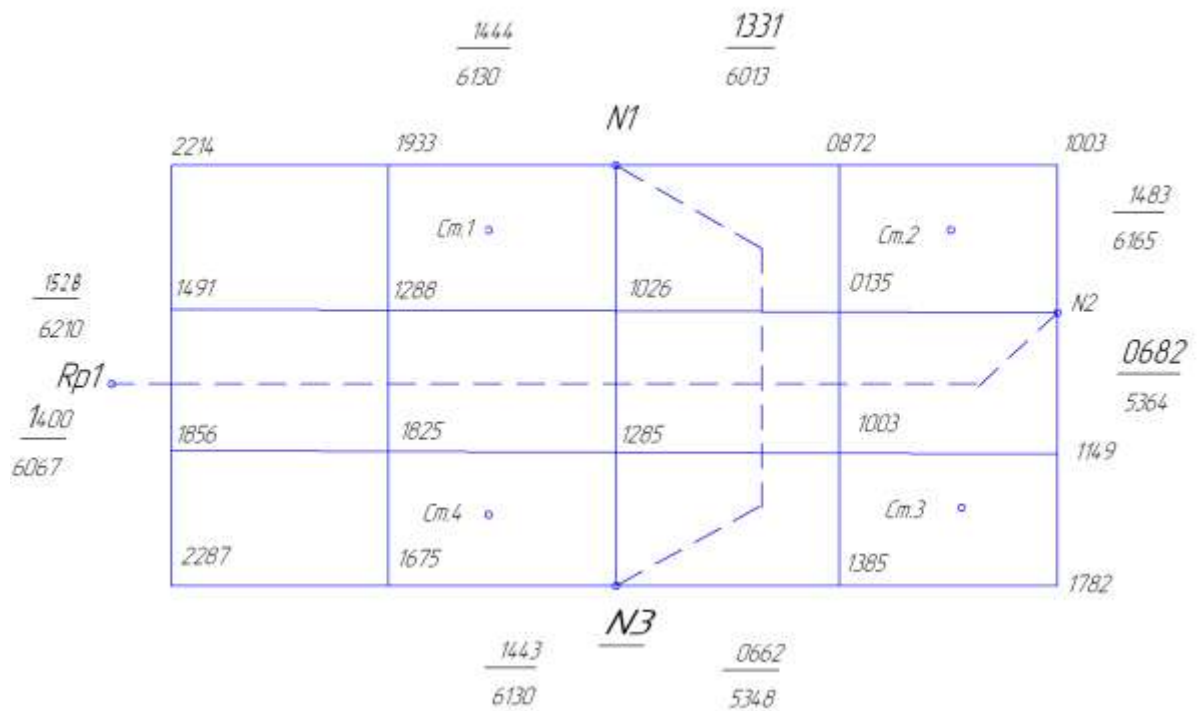


Рис. 13. План с горизонталями

Таблица 7

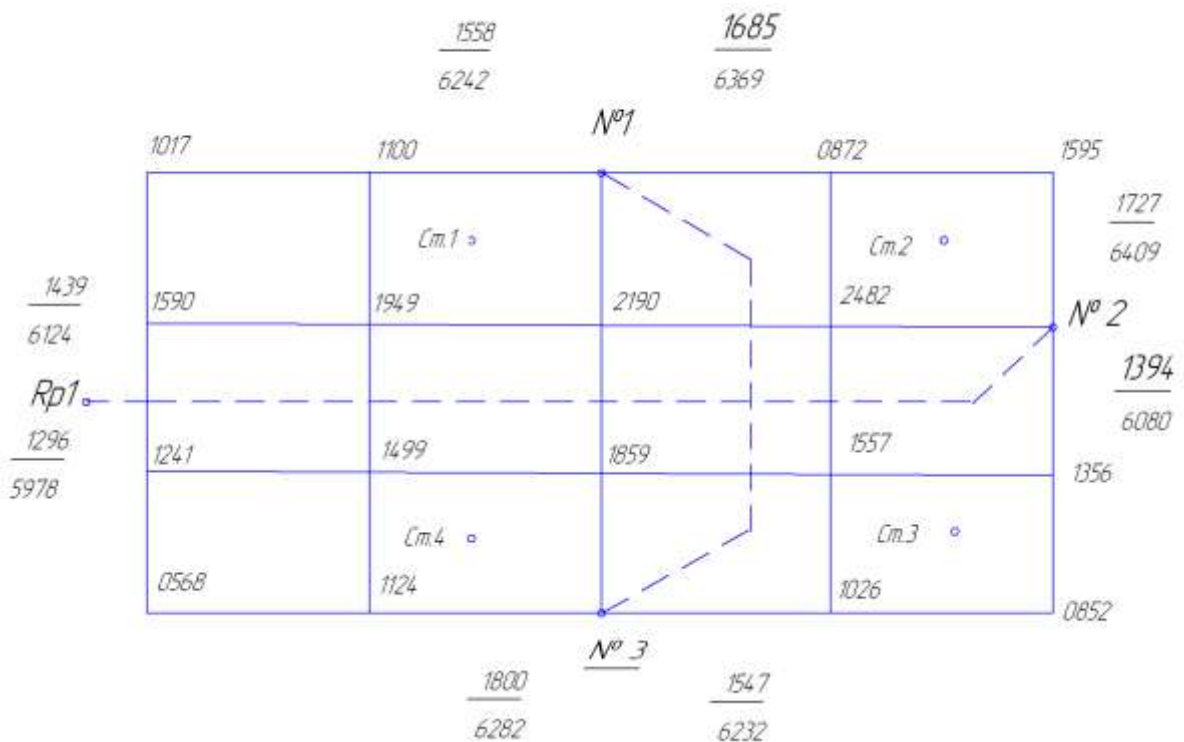
Журнал нивелирования поверхности по квадратам

Вариант 1



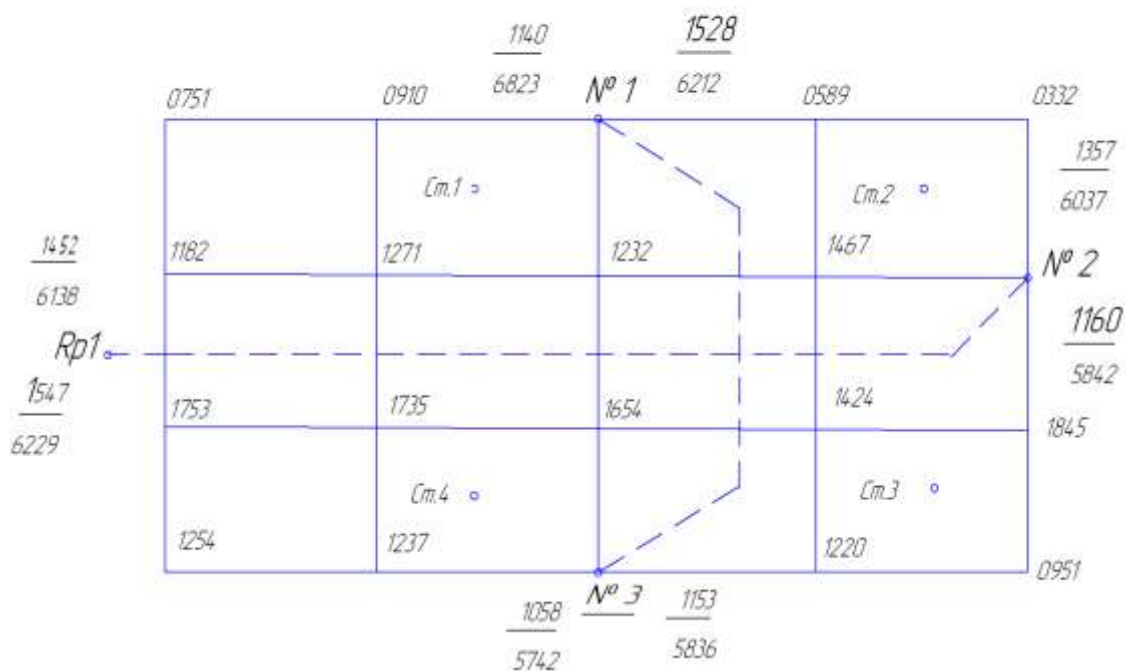
Продолжение таблицы 7

Вариант 2



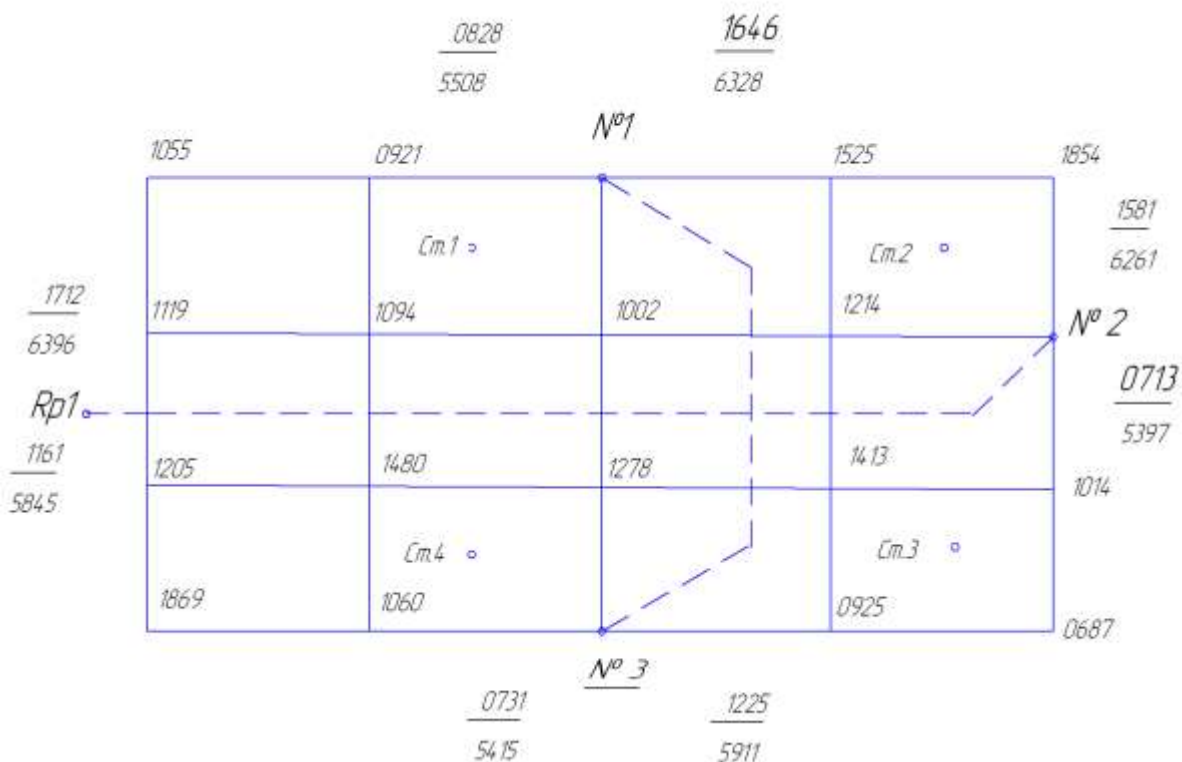
Продолжение таблицы 7

Вариант 3



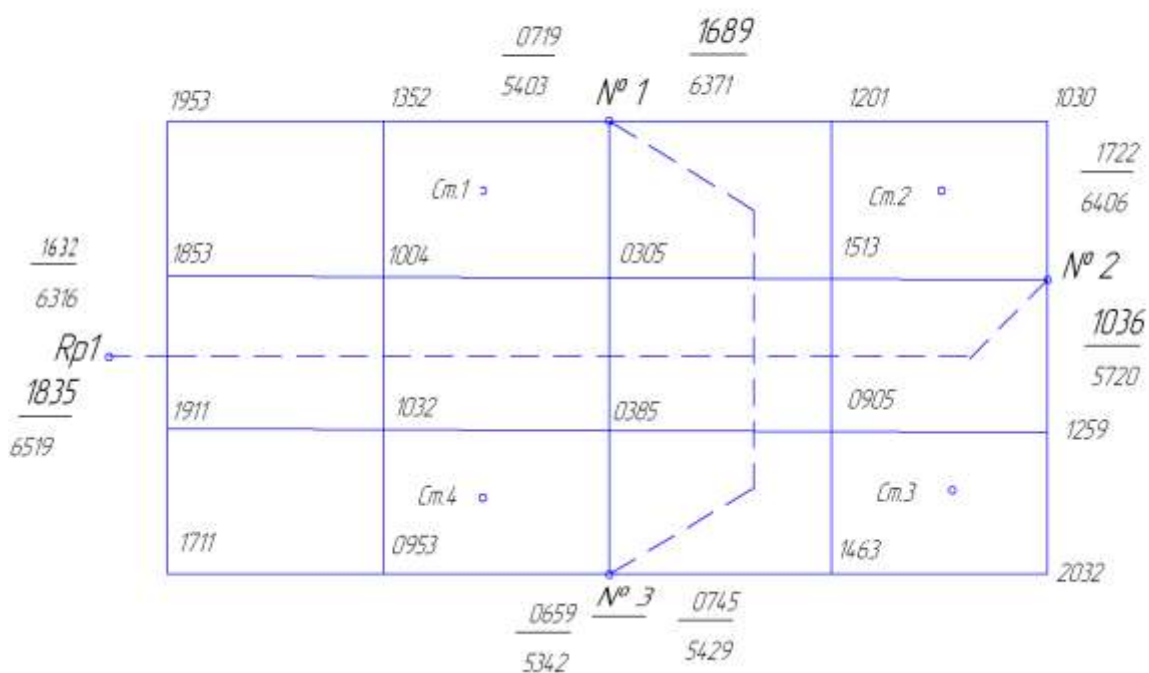
Продолжение таблицы 7

Вариант 4



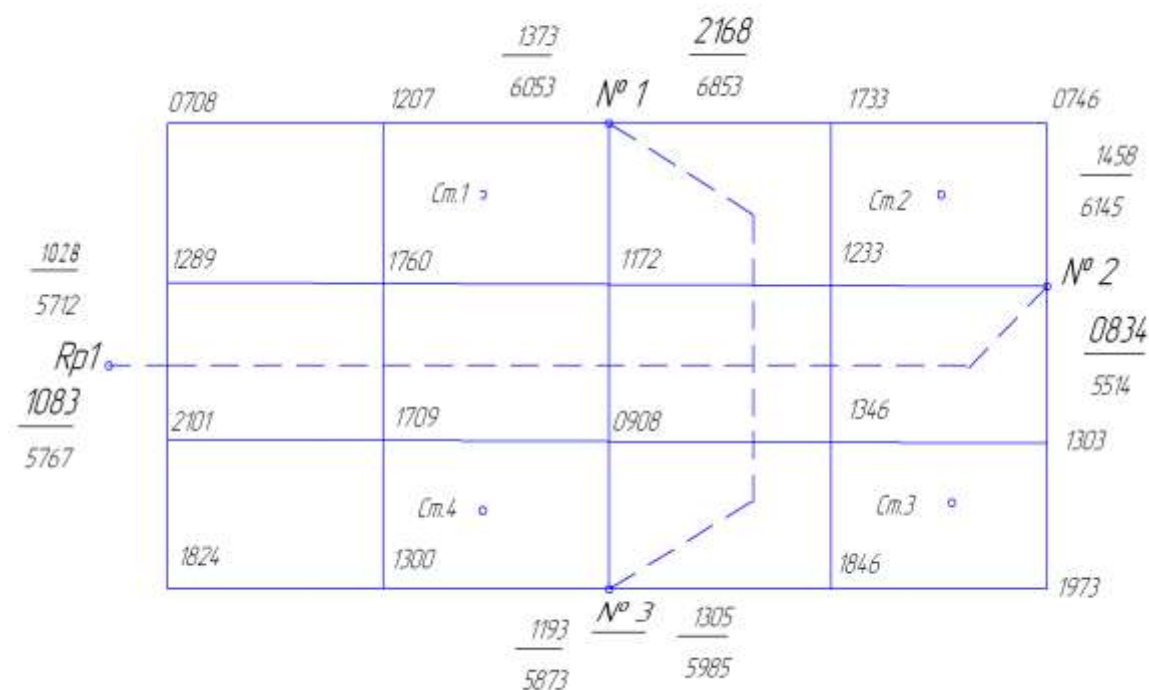
Продолжение таблицы 7

Вариант 5



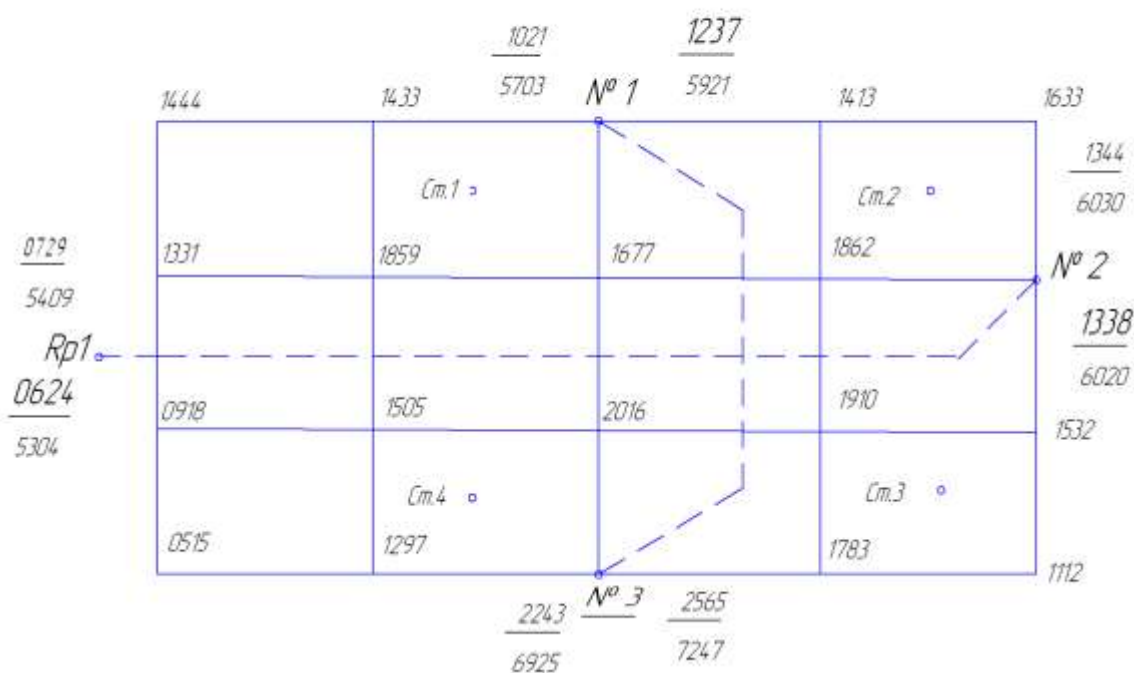
Продолжение таблицы 7

Вариант 6



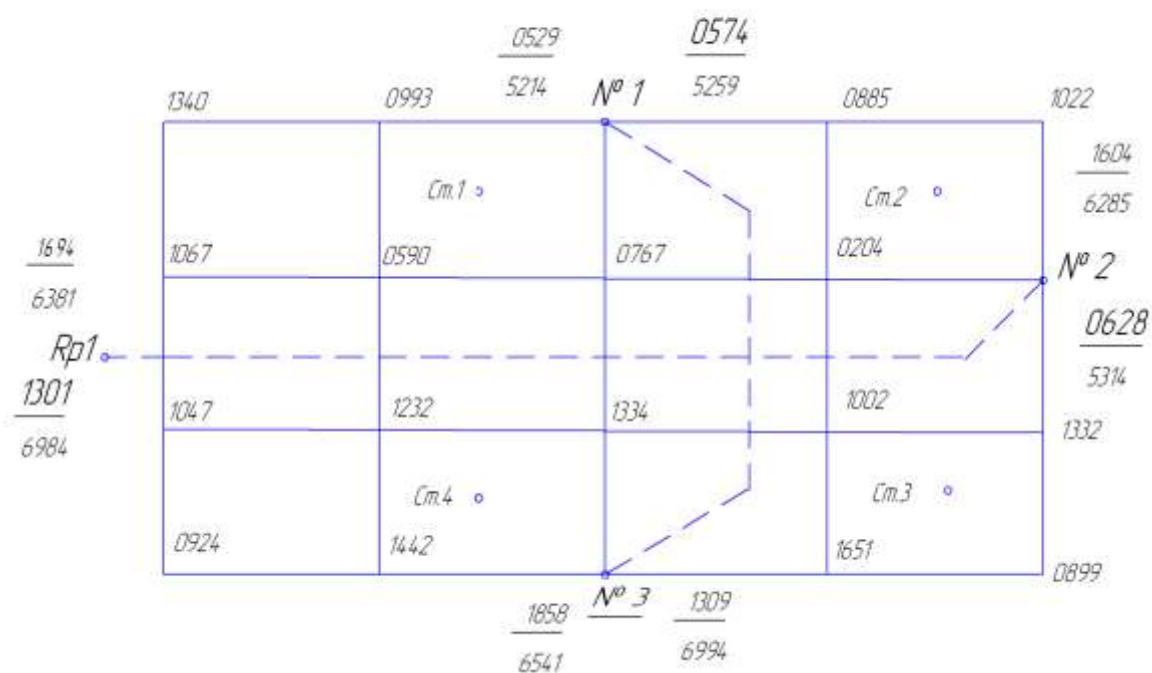
Продолжение таблицы 7

Вариант 7



Продолжение таблицы 7

Вариант 8



Продолжение таблицы 7

Вариант 9

		$\frac{0540}{5224}$	$\frac{0705}{5389}$		
	2053	1494	№ 1	1103	1336
		<i>См.1</i> ◦		<i>См.2</i> ◦	$\frac{1798}{6482}$
$\frac{2695}{7381}$	2653	2071	1256	1902	№ 2
<i>Rp1</i>					$\frac{0736}{5416}$
$\frac{1726}{6410}$	2683	1900	1323	1208	0813
		<i>См.4</i> ◦		<i>См.3</i> ◦	
	1536	0828		0634	0523
		$\frac{0702}{5384}$	№ 3	$\frac{0782}{5466}$	

Продолжение таблицы 7

Вариант 10

		$\frac{1429}{6113}$	$\frac{1604}{6289}$		
	1021	1819	№ 1	1380	0840
		<i>См.1</i> ◦		<i>См.2</i> ◦	$\frac{1387}{6076}$
$\frac{2584}{7268}$	1836	2652	1821	1171	№ 2
<i>Rp1</i>					$\frac{0324}{5009}$
$\frac{1627}{6310}$	1213	2109	1390	0841	0890
		<i>См.4</i> ◦		<i>См.3</i> ◦	
	1828	2216		1359	1629
		$\frac{0592}{5277}$	№ 3	$\frac{0671}{5354}$	

Контрольные вопросы для задачи 3

1. Какие документы получают в результате нивелирования поверхности?
2. Как вычисляют горизонт инструмента?
3. Что необходимо знать, чтобы определить отметки вершин?
4. С какой точностью производят вычисление отметок вершин и записывают их на схему нивелирования?
5. С какой точностью выписывают отметки вершин на план?
6. Как выполняют графическую интерполяцию горизонталей?
7. Какие цвета применяют для оформления плана?
8. По какой формуле вычисляют проектную и рабочую отметки?
9. По какой формуле производят контроль вычисления проектной отметки?
10. Что выписывают на картограмму земляных работ, и каким цветом?
11. О чем говорят знаки рабочей отметки «плюс» и «минус»?
12. По каким формулам вычисляют горизонтальные расстояния от точки нулевых работ до вершин квадратов?
13. По какой формуле подсчитывают объем земляных работ?
14. Чему равна высота призмы?
15. При каком условии можно считать, что баланс земляных работ не нарушен?
16. Нужно ли учитывать при подсчете объема земляных работ объем грунта, вынимаемого из котлована?

Задание 4

ТАХЕОМЕТРИЧЕСКАЯ СЪЕМКА

Цель задания состоит в составлении топографического плана в масштабе 1:2000 с высотой сечения рельефа 0,5метра.

Порядок выполнения задания.

1. Вычислить координаты точек разомкнутого теодолитного хода, который является плановым геодезическим обоснованием для тахеометрической съёмки.
2. Вычислить отметки точек нивелирного хода, который является высотным геодезическим обоснованием для тахеометрической съёмки..
3. Вычислить отметки речных точек местности, предварительно обработав журнал тахеометрической съёмки.
4. по вычисленным координатам нанести на план точки теодолитного хода.
5. Нанести на план речные точки.
6. провести на плане горизонтали с высотой сечения рельефа 0,5м.
7. Оформить план местности в соответствии с условными знаками (рис.20).

Результаты измерений и исходные данные

1. Величины горизонтальных углов и горизонтальных проложений, полученные в результате измерений в теодолитном ходе взять из таблицы 8.
2. Координаты полигонометрического знака ПЗ12 равны: $X_{ПЗ12} = 8000,00\text{м}$; $Y_{ПЗ12} = 6100,00\text{м}$
3. Координаты $X_{ПЗ12}$ и $Y_{ПЗ12}$ полигонометрического знака ПЗ18, а также дирекционные углы a_{11-12} и a_{18-19} взять из таблицы 13 по двум последним цифрам шифра;
4. Отметки ПЗ12 и ПЗ18 выбираются из таблицы 13 по двум последним цифрам шифра.

Таблица 8

№ точек	Измеренные углы	Длины сторон, м
ПЗ 12	$320^{\circ}10'$	224,99 201,94 208,04 126,7
1	$83^{\circ}07'$	
2	$128^{\circ}46'$	
3	$78^{\circ}37'$	
ПЗ 18	$300^{\circ}20'$	

Плановое съёмочное обоснование тахеометрической съёмки создано методом проложения разомкнутого теодолитного хода, опирающегося на исходные пункты с известными прямоугольными координатами ПЗ12 и ПЗ18 (рис. 14).

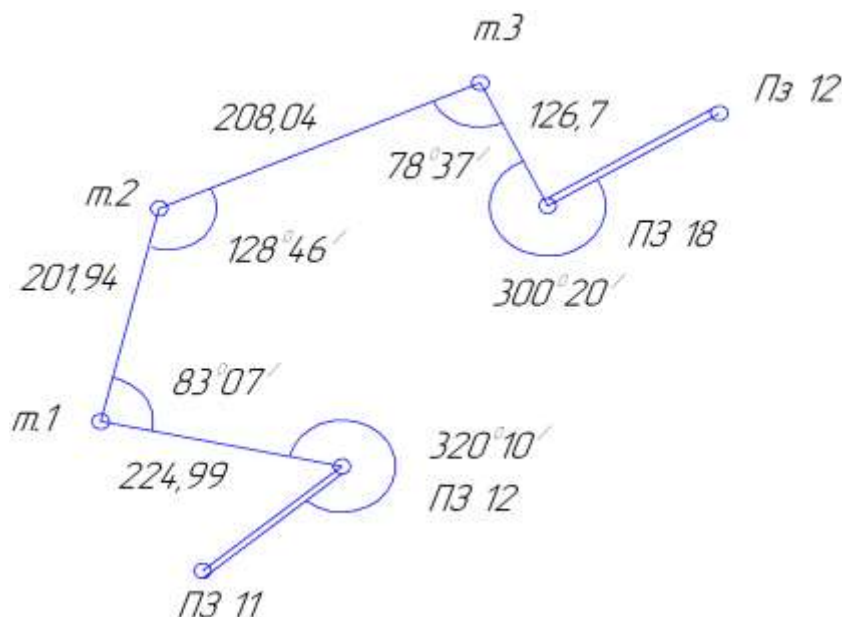


Рис. 14. Схема теодолитного хода

Высотное обоснование тахеометрической съёмки создано методом проложения хода геометрического нивелирования технической точности. В таблице 11 приведены результаты измерения превышений в нивелирном ходе между полигонометрическими пунктами ПЗ12 и ПЗ18. Горизонтальные углы, лежащие справа по ходу, измерены теодолитом 2ТЗ011 одним полным приёмом со средней квадратической ошибкой $m_p = 30''$. Длины сторон теодолитного хода были измерены стальной 50-ти метровой рулеткой дважды в прямом и обратном направлении.

Съёмка ситуации проводилась тремя способами:

1. полярным способом
2. способом перпендикуляров
3. способом узловой засечки.

Создание планового обоснования тахеометрической съемки (вычисление координат точек теодолитного хода)

Запись исходных данных в ведомость координат

В графу 1 таблицы 9 выписывают названия исходных пунктов и номера точек теодолитного хода. В графу 2 против каждого номера точки выписывают значения, измеренных углов из таблицы 8. В графу 5 (из таблицы 13) выписывают начальный α_{18-19} дирекционный угла; При этом значения этих углов записывают между ПЗ11 и ПЗ12, а также между ПЗ18 и ПЗ19. Длины сторон (из таблицы 8) выписывают в графу 7. В графах 14 и 15 напротив полигонометрического знака ПЗ12 записывают значение $X = 8000,00$ м.; $Y = 6100,00$ м., а напротив ПЗ18 записывают координаты выбранные из таблицы 13.

Таблица 13

№№ точек	Горизонтальные углы			Дирекци- онные углы α	Румбы r	Горизон- приложе- ния d , м	Приращения координат						Координаты	
	Изме- рен. $\beta_{изм}$	по- прав- ка	ис- правл. $\beta_{испр}$				Вычис- лен. $x=d \cos$ α , м	По- прав- ка, м	Вычисл. $\Delta y =$ $d \sin \alpha$, м	Поправ- ка, м	Исправ Δx , м	Исправ Δy , м	X м	Y м
1	2	3	4	5	6	7	8	9	10	11	12	13	14	15
ПЗ 11														
				57°51'6										
ПЗ 12	320°10'		320°10'										8000,00	6100,00
				277°41'6	СЗ : 82°18'4	224,99	+30,12	-0,08	-222,96	+0,11	+30,04	-222,85		
1	83°07'	+1'	83°07'										8030,04	5877,15
				14°33'6	СВ : 14°33'6	201,94	+195,45	-0,07	+50,77	+0,10	+195,38	+50,87		
2	128°46'	+1'	128°46'										8225,42	5928,02
				65°46'4	СВ : 65°46'4	208,04	+85,36	-0,07	+189,72	+0,10	+85,29	+189,82		
3	78°37'		78°37'										8310,71	6117,84
				167°09'6	ЮВ : 12°50'4	126,70	-123,53	-0,05	+28,16	+0,07	+123,58	+28,23		
ПЗ 18	300°20'		300°20'										8187,13	6146,07
				46°49'6										
ПЗ 19														

$$\sum \beta_{np} = 911^{\circ}00',0$$

$$\sum \beta_{meop} = 911^{\circ}02',0$$

$$f_{\beta} = 2$$

$$f_{\beta} = 1,5\sqrt{m} = \pm 3,3$$

$$P=761,67m$$

$$\sum \Delta X_{gh} = +187,40m$$

$$\sum \Delta X_{meop} = +187,13m \quad \sum \Delta y_{meop} = +46,07m$$

$$f_x = +0,27m \quad f_y = 0,37m$$

$$f_{a\delta c} = \sqrt{(0,27)^2 + (-0,138)^2} = \sqrt{0,2173} = 0,47m$$

$$\frac{f_{a\delta c}}{P} = \frac{0,47}{761,67} = \frac{1}{1600}$$

Определение угловой невязки и распределение поправок в углы

Вычисляют сумму всех измеренных углов теодолитного хода и записывают практическую сумму $\sum \beta_{\text{пр}}$ под общей чертой. Затем вычисляют теоретическую сумму углов по формуле

$$\sum \beta_{\text{теор}} = a_{11-12} - a_{18-19} + 180^\circ n,$$

где n-число углов теодолитного хода.

$$f\beta = \sum \beta_{\text{пр}} - \sum \beta_{\text{теор}}$$

В рассмотренном примере $\sum \beta_{\text{теор}} = 57^\circ 51',6 - 46^\circ 49',6 + 180^\circ \times 5 = 911^\circ 02',0$:

Подписывают вычисленную, теоретическую сумму под практической и, вычитая из первой суммы вторую, получают угловую невязку теодолитного хода:

В рассматриваемом примере

$$f\beta = 911^\circ 00' - 911^\circ 02',0 = -2',0$$

Вычисленная угловая невязка не должна превышать предельную невязку, которая определяется по формуле

$$\text{Пред. } f\beta = 3_m \beta \sqrt{n}$$

Для теодолитного 2Т30П средняя квадратическая ошибка измерения горизонтального угла равна $m\beta = 30'$. Тогда пред. $f\beta = 1',5 \sqrt{n}$,

Где n – число углов в теодолитном ходе.

Если полученная невязка окажется меньше предельной, то поправки вводятся во все измеренные углы (графа 3). Учитывая следующие правила:

1. Поправки имеют знак, обратный знаку невязки.
2. Поправка вводится, по возможности, поровну во все измеренные углы.

Для простоты вычислений допускается введение таких поправок, чтобы исправленные значения углов имели целое число минут.

3. Сумма поправок должна быть равна невязке, но иметь противоположный знак.

К измеренным углам алгебраически прибавляют поправки в полученные значения уравненных (исправленных) углов записывают в графу 4. Сумма исправленных углов должна равняться теоретической сумме.

В рассматриваемом примере $f\beta < \text{пред.}f\beta = -2'$ распределена в углы на станциях 1 и 2 по $+1'$.

Вычисление дирекционных углов теодолитного хода

Дирекционные углы для каждой стороны вычисляют по формуле

$$a_n = a_{n-1} + 180^\circ - \beta_n,$$

где a_{n-1} - дирекционный угол предыдущей стороны хода;

a_n - дирекционный угол последующей стороны;

β_n - исправленный угол, лежащий справа по ходу между стороной с известным дирекционным углом и следующей стороной.

Например, если a_{11-12} известен, то a_{1-2} будет равен $a_{1-2-12} + 180^\circ - \beta_{12}$, где β_{12} - исправленное значение угла на ПЗ12. Дирекционные углы всех последующих сторон вычисляют в том же порядке. Контролем правильности вычисления дирекционных углов является получение в конечном итоге точного значения конечного дирекционного угла

a_{18-19} .

В разбираемом примере имеем:

$57^\circ 51',6$

$+180^\circ 00',0$

$237^\circ 51',6$

$+360^\circ 00',0$

$$597^{\circ} 51',6$$

$$\underline{-320^{\circ} 10',0}$$

$$277^{\circ} 41',6 - a_{1-2} \text{ и т.д.}$$

Если после прибавления 180° к дирекционному углу исправленный угол будет меньше, полученной суммы, к ней необходимо прибавить еще 360° , а затем вычитать исправленный угол β . Если дирекционный угол получится больше 360° , то необходимо из него вычесть 360° . Дирекционные углы записываются в графе 5 между строк, в которых записаны номера точек.

Вычисление румбов

Вычисленные дирекционные углы переводят в румбы (r) по одной из формул, приведенных в рис.15. Значение и наименование румба зависят от значения дирекционного угла.

Вычисленные румбы и их значения записывают в графу 6.

Вычисление приращений координат, невязок и координат точек теодолитного хода

Приращения координат по осям X и Y вычисляют по формулам:

$$\Delta x = d \cos a = d \cos r,$$

$$\Delta y = d \sin a = d \sin r$$

где d – горизонтальное положение;

a – дирекционный угол;

r – румб.

Для нахождения значения тригонометрических функций ($\sin a$ и $\cos a$, $\sin r$, $\cos r$), дирекционного угла или румба линии следует использовать либо каль-

кулятор, либо «Пятизначные таблицы тригонометрических функций». Горизонтальное положение следует умножить на значение соответствующей тригонометрической функции, выбранной с точностью до пятого знака после запятой, результат округлить до сотых долей метра и записать в графы 8 и 10.

Перед значениями приращений координат Δx и Δy ставят знак плюс (+) или (-) в зависимости от наименования румба (таблица 10).

При вычислении значений тригонометрических функций на калькуляторах, знаки приращений координат, вычисляемых по дирекционным углам, получаются автоматически.

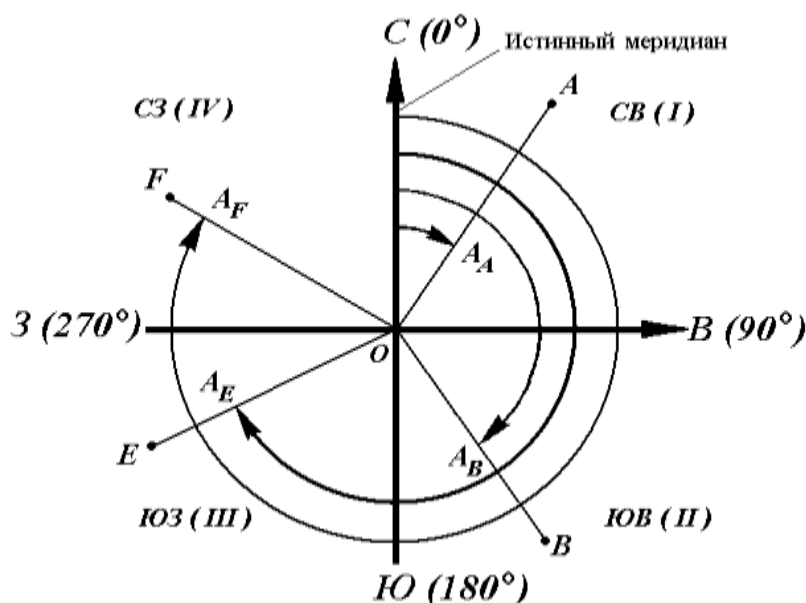


Рис. 15. Связь между дирекционными углами и румбами

Таблица 10

Название румбов	Знаки приращения координат	
	Δx	Δy
СВ	+	+
ЮВ	-	+
ЮЗ	-	-
СЗ	+	-

Затем подсчитывают в графе 8 под чертой и

$$\sum \Delta x_{\text{теор}} = X_{\text{к}} - X_{\text{н}}$$

$$\sum \Delta y_{\text{теор}} = Y_{\text{к}} - Y_{\text{н}}$$

Где $X_k - X_n$ – координаты (по оси X) соответственно конечной $X_{ПЗ18}$ и начальной $X_{ПЗ13}$ точек теодолитного хода;

$Y_k - Y_n$ – координаты (по оси Y) соответственно конечной $Y_{ПЗ18}$ и начальной $Y_{ПЗ12}$ точек теодолитного хода;

Невязку в приращениях координат вычисляют от цельно по каждой оси по формулам:

$$f_x = \sum \Delta X_{пр} - \sum \Delta X_{теор},$$

$$f_y = \sum \Delta y_{пр} - \sum \Delta y_{теор}$$

В разбираемом примере $f_x = + 0,27$ м., $f_y = - 0,38$ м.

Для оценки полученных невязок необходимо вычислить абсолютную невязку, которая представляет собой гипотенузу прямоугольного треугольника с катетами, равными f_x и f_y , т.е.

$$f_{абс.} = \sqrt{f_x^2 + f_y^2} = 0,47 \text{ м.}$$

Затем подсчитываем длину теодолитного хода $P = 761,67$ м. (графа 7 внизу под чертой) и вычисляют относительную невязку.

$$\frac{f_{абс.}}{P} = \frac{0,47 \text{ м}}{761,67 \text{ м}} = \frac{1}{1600}$$

Полученная относительная невязка должна быть меньше 1/1500. Это означает, что все измерения были выполнены с достаточной точностью и вычисления не содержат грубых ошибок.

После подсчета относительной невязки следует невязки f_x и f_y распределить в виде поправок во все приращения координат Δx и Δy . Распределяют поправки с учетом следующих правил:

1. Величины поправок должны быть прямо пропорциональны величинам горизонтальных проложений.
2. Знаки поправок должны быть обратными знаку невязки.

3. Сумма всех поправок должна равняться невязке, взятой с обратным знаком.

Поправки записывают в графу 9 и 11. Исправленные приращения координат ($\Delta x_{\text{испр.}}$ и $\Delta y_{\text{испр.}}$) вычисляют как алгебраическую сумму вычисленных значений Δx и Δy и соответствующих поправок.

Исправленные приращения записывают в графы 12 и 13.

Координаты точек теодолитного хода вычисляют по формулам:

$$X_{n+1} = X_n + \Delta x_{\text{испр.}}$$

$$Y_{n+1} = Y_n + \Delta y_{\text{испр.}}$$

И записывают в графы 14 и 15 в строке напротив соответствующего номера точки. Контролем правильности вычислений служит получение точного значения координат полигонометрического знака ПЗ18.

Создание высотного обоснования тахеометрической съемки

Отметки исходных пунктов $H_{\text{ПЗ12}}$ и $H_{\text{ПЗ18}}$ необходимо выбрать из таблицы 13 и выписать в журнал нивелирования точек теодолитного хода (таблица 11) напротив соответствующих точек (графа 7).

Вычисление отметок точек теодолитного хода выполняются аналогично вычислениям в журнале продольного нивелирования (см. задание 2) в следующем порядке:

1. На каждой станции вычисляют превышения по основной (черной) стороне рейки $h_{\text{ч}} = a_{\text{ч}} - b_{\text{ч}}$ и по дополнительной (красной стороне) $h_{\text{кр}} = a_{\text{кр}} - b_{\text{кр}}$ и записывают в графу 5 таблицы 11.

2. Если $h_{\text{ч}}$ и $h_{\text{кр}}$ расходятся не более чем на 5 мм то вычисляют $h_{\text{ср}} = (h_{\text{ч}} + h_{\text{кр}}) / 2$ и записывают в графу 6.

4. Вычисляют невязку

$$f_h = \sum h_{cp.} - \sum h_{теор}$$

где $\sum h_{cp.}$ - сумма средних превышений:

$\sum h_{теор}$ - теоретическая сумма измеренных превышений. В разомкнутом ходе она равна отметке конечной точки хода минус отметка начальной точки.

Таблица 11

Журнал нивелирования точек теодолитного хода

№ Станции	№№ точек	Отсчеты		Превышения		Отметки Н,м
		Задн (мм)	Перед (мм)	h (мм)	h _{cp.} мм	
1	ПЗ 12	1425	2110			
	т. 1	6225	6910			
2	т. 1	0214	2680			
	т.2	5015	7477			
3	т.2	1756	1446			
	т.3	6558	6248			
4	т.3	2756	0641			
	ПЗ 00	7554	5437			

$$\sum h_{cp.} =$$

$$\sum h_{теор.} =$$

$$f_h = \sum h_{cp.} - \sum h_{теор} =$$

$$\text{Пред. } f_h = 50 \text{ мм } \sqrt{L} =$$

Предельная (допустимая) невязка вычисляется по формуле

$$\text{Пред. } f_h = 50 \text{ мм } \sqrt{L},$$

где L-число километров в нивелирном ходе.

В рассматриваемом примере $L=0,76$ (км) и Пред. $f_h = \pm 44$ мм.

4. Если невязка f_h больше предельного значения, то надо исправить ошибку в полевых или вычислительных работах. Если меньше, то её распределяют в виде поправок в среднее превышения со знаком, обратным знаку вычисленной невязки. Записывают поправки записывают в графу 6 над средним превышения красным цветом.

5. Вычисляют исправленные значения превышений $h_{\text{испр}}$ как алгебраическую сумму среднего превышения и его поправки. Исправленные превышения записывают под средним превышением в графе 6.

Сумма поправок после распределения должна быть равна невязке с обратным знаком.

5. Вычисляют отметки точек теодолитного хода по формуле:

$$H_n = H_{n-1} + h_{\text{испр}},$$

Где H_n - отметка последующей точки;

H_{n-1} – отметка предыдущей точки;

$h_{\text{испр}}$ – исправленное превышение.

Вычисленные отметки записывают в графу 7 на против номеров точек теодолитного хода.

Контролем правильности вычисления является сходимость вычисленного значения отметки последней точки $H_{\text{ПЗ18}}$ с его исходным значением.

Обработка журнала тахеометрической съемки

В таблице 12 приведен журнал тахеометрической съемки, в котором, в качестве примера, обработаны результаты измерений, выполненные на станции т. 1.

Студенты должны самостоятельно выполнить аналогичные вычисления на станциях т.2; т.3 и ПЗ18.

Вычисление места нуля (МО) вертикального круга и углов наклона на речные точки

Определения отметок речных точек производится методом тригонометрического нивелирования. Для этого на станции определяется место нуля (МО) вертикального круга. Для этого зрительная труба наводится на удаленную точку при положении круг лево (КЛ) и берется отсчет по вертикальному кругу. Эти же действия производятся при круге право (КП). Значение места нуля вычисляется по формуле:

$$MO = (KЛ + КП) / 2 = (-1^{\circ} 02' + 1^{\circ} 04') / 2 = +0^{\circ} 01'$$

Значение МО на станции должно быть величиной постоянной (допустимое отклонение $\pm 2'$), поэтому вертикальные углы на речной точке, съемка которых производится только при положении вертикального круга КЛ, вычисляются по формуле

$$v = KЛ - MO$$

Например: на станции 1 $v_1 = +0^{\circ} 12' - 0^{\circ} 01' = +0^{\circ} 11'$, $v_2 = -0^{\circ} 16' - 0^{\circ} 01' = -0^{\circ} 17'$

Вычисленные значения углов наклона выписывают в графу 6.

Вычисление горизонтальных проложений

В графе 3 приведены результаты измерения наклонных расстояний между станцией т.1 и речными точками с помощью нитяного дальномера. Для построения плана необходимо перейти от наклонных расстояний к горизонтальным проложениям d , которые вычисляются по формуле

$$d = D \cos v$$

Вычисленные значения записываю в графу 7. При углах наклона меньше 2° горизонтальное положение, вычисляемое с точностью до 0,1 м, принимается равным измеренному наклонному расстоянию.

Вычисления превышений.

Превышение h между точкой стояния и речными точками определяют по формуле

$$h = h' + i - v,$$

где i - высота прибора на данной станции;

v - высота наведения на рейку.

Значение превышения h вычисляется по формуле:

$$h' = dtg\alpha,$$

Вычисления можно производить либо с помощью микрокалькулятора, либо с использованием тахеометрических таблиц.

Если $i = v$, то $h = h'$. Величина высоты прибора i записано около номера станции, а величина высоты наведения в графе 9. Полученные значения превышений записываются в графу 11, округляя до 0.01 м. Так на станции $h_1 = +0.34$ м, $h_2 = -0.20$ м.

Вычисление отметок речных точек

Из журнала продольного нивелирования (таблица 11) выписывают отметку точки стояния, округляя её до 0,01 м. Отметки речных точек вычисляют как алгебраическую сумму отметки данной станции и соответствующего превышения на речную точку. Вычисление отметки записывают в графу 11 с точностью до 0,01 м.

В рассматриваемом примере из таблицы 11 выписана отметка точки $H_{ст1} = 52,30$ м. Тогда отметки речных точек 1 и 2 равны:

$$H_1 = H_{ст1} + h_1 = 52,30 \text{ м} + 0,34 \text{ м} = 52,64 \text{ м}$$

$$H_2 = H_{ст1} + h_2 = 52,30 \text{ м} - 0,20 \text{ м} = 52,10 \text{ м}$$

Журнал тахеометрической съёмки

Точка стояния	Точка наведе ния	Даль но мер- ное рас- стоя ние D,м	Отсчеты		Угол накло на V	Гориз поло- жение d ₁ v	Превы- шение 1 м	Вы- сота наве де ния V,М	Пре- выше ние h=	От- метка Н ₁ М
			Го- риз. круг	Верт.к руг Кл.						
1	2	3	4	5	6	7	8	9	10	11
Станция т.1 Ориентирование на ПЗ 12 ..=1,36 м КЛ = -1°02' КЛ = +1°04' МО = +1°01'										
Т.1	ПЗ1 2		0°00'							52,30
	1	105,7	335° 10'	+0°12'	+0°11' /	105,7	+0,33	V=1	+0,34	52,64
	2	41,2	289° 30'	-0°16'	-0°17'	41,2	-0,20	V=1	-0,20	52,10
Станция т.2 Ориентирование на т.1.=1,32 м КЛ = +0°12' КЛ = +0°10' МО =										
Т.2	Т.1		0°00'							
	3	18,3	335° 10'	0°18'				V=1		
	4	34,1	335° 10'							
	5	52,6	335° 10'	0°56'				V=1		
	6	104,0	335° 10'	0°53'				V=1		
Станция т.3 Ориентирование на т.2.=1,27 м КЛ = -0°54' КЛ = +0°54' МО =										
Т.3	Т.2		0°00'							
	7	24,3	70°3 0'	-1°00'				V=1		
	8	37,8	85°0 0'							
	9	58,4	268° 20'	+1°08'				V=1		
	10	15,4	317° 00'	+0°33'				V=1		
	11	103,8	341° 10'	+0°08'				V=1		
	12	21,3	302° 00'	+0°11'						

Станция ПЗ 18 Ориентирование на т.3=1,30м										
КЛ =+2°0′										
КЛ =+2°05′ МО=										
ПЗ18	Т.3		0°00′							
	13	54,4	248° 20′	+0°05′				V=1		
	14	107,5	245° 30′	+0°06′				V=1		

Построение плана тахеометрической съемки

Построение координатной сетки

План строится на чертежной бумаге хорошего качества хорошо отточены твердым карандашом. Составление плана начинают с построения координатной сетки, к точности которой предъявляются высокие требования. Для построения сетки применяют линейку Дробышева, которая позволяет произвести необходимые построения быстро и с необходимой точностью.

Если нет линейки Дробышева, то координатную сетку можно построить с помощью обыкновенной деревянной линейкой (рис.16).

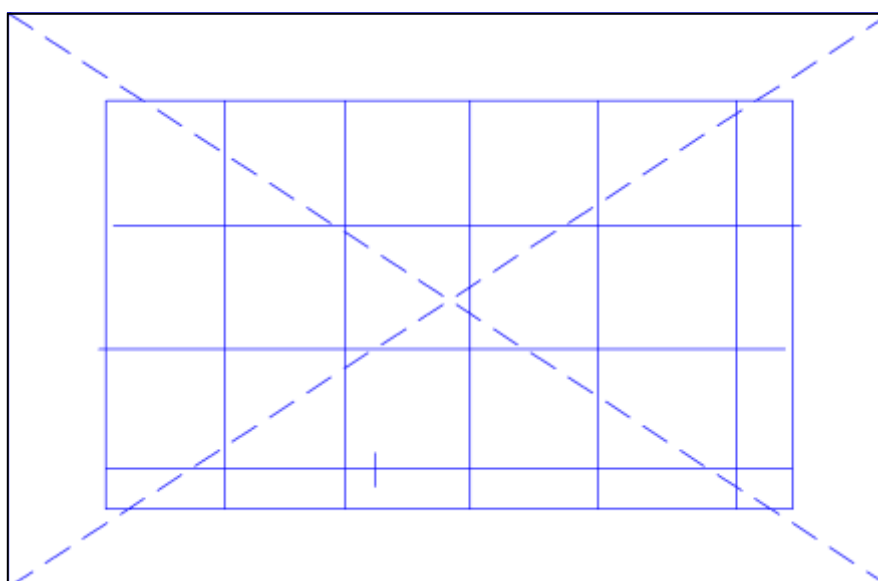


Рис. 16. Построение координатной сетки с помощью линейки

Для этого через весь лист бумаги проводят две диагонали и от точки их пересечения откладывают с помощью измерителя по направлению к каждому углу листа одинаковые отрезки, например, по 20-25 см. Полученные наколы на диагоналях соединяют по линейке хорошо отточенным карандашом и получают прямоугольник. По масштабной линейке (в крайнем случае по металлической линейке с миллиметровыми делениями) берут измерителем отрезок в 10 см и откладывают его на сторонах прямоугольника. Полученные на противоположных сторонах прямоугольника соединяют линиями и получают координатную сетку. Отрезки на противоположных сторонах прямоугольника, которые получились в виде неполных сторон квадратов должны быть попарно равны между собой. Допустимая погрешность не должна превышать одного укола измерителя (0,1 мм)

Нанесение по координатам точек теодолитного хода

В первую очередь оцифровывают координатную сетку с учетом масштаба плана и координат точек теодолитного хода. Необходимо, чтобы точки при нанесении по координатам разместились в середине листа бумаги, поэтому при оцифровке координатной сетки необходимо учитывать наибольшие и наименьшие значения абсцисс и ординат точек (см. ведомость координат таблица 9 и рис.17).

При построении плана в масштабе 1: 2000 линии координатной сетки проводят через 10 см и подписывают числами кратными 200 метрам.

Допустим, нужно нанести на план в масштабе 1:2000 точки теодолитного хода по их координатам, которые вычислены в ведомости координат. Абсциссы точек находятся в пределах от 8000,00 м до 8310,71 м Поэтому абсциссы следует подписать от 7800 м до 8400 м, т.е. так, чтобы точки располагались в пределах координат сетки. Также производят оцифровку по оси ординат.

Точки теодолитного хода наносят на план по вычисленным координатам (таблица9, графы 14 и 15). Так, для того, чтобы нанести по координатам точку 1 (рис.17) по координатам $X_1 = 8030,04$ м и $Y_1 = 5877,15$ м, необходимо сначала

определить в каком квадрате находится точка. Затем от линии с абсциссом 8000,00 м по вертикальным сторонам квадрата нужно отложить расстояние 30,04 м, а от линии с ординатой 5800,00 м откладывают отрезок 77,15 м. Соединив полученные на противоположных сторонах квадрата точки, получают на пересечении искомую точку. Аналогично наносят по координатам остальные точки.

Для контроля правильности нанесения точек измеряют горизонтальные проложения между ними. Допустимое расхождение между измеренными значениями и вычисленными (таблица 8) равно 0,2 мм.

Полученные точки соединяют по линейке карандашом тонкими линиями.

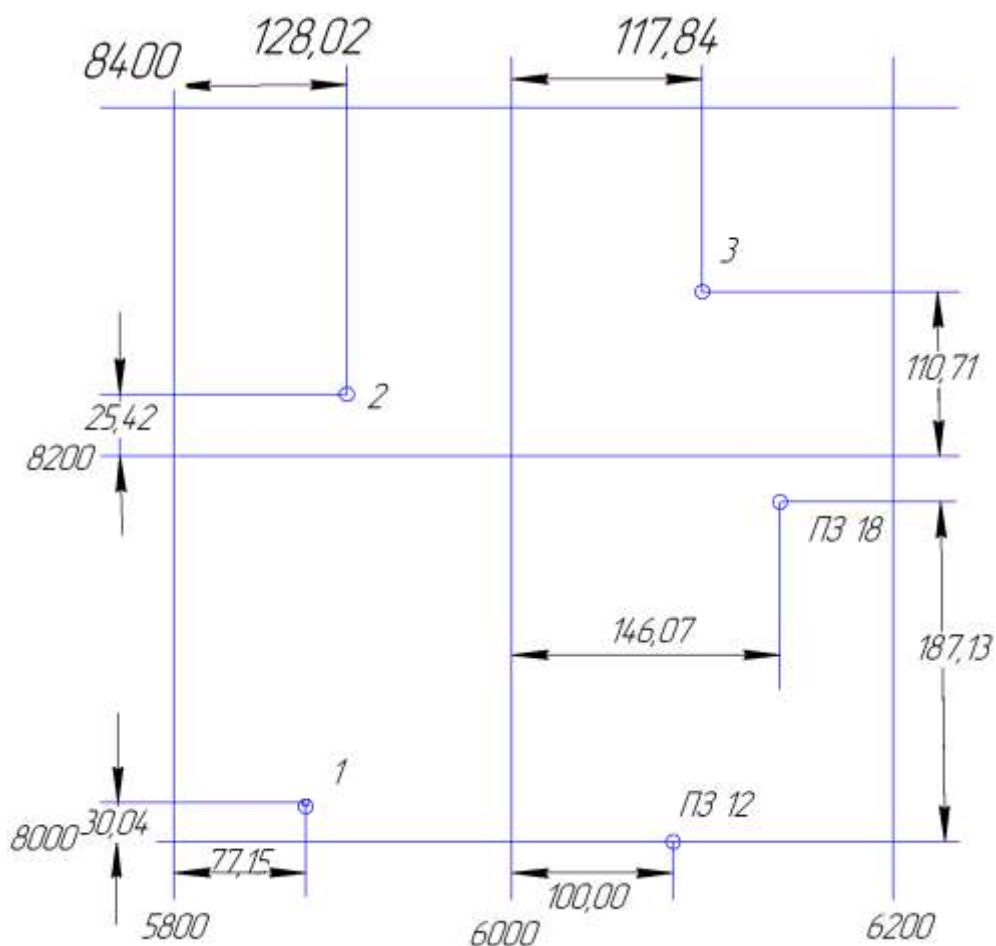


Рис.17 Нанесение точек теодолитного хода по координатам.

Нанесение на план речных точек

Для нанесения речных точек необходимые данные берут из журнала тахеометрической съемки (таблица 12). Речные точки наносят на план с помощью циркуля-измерителя, масштабной или металлической линейки и транспортира.

Рассмотрим для примера порядок нанесения на план речной точки 1. При съемке на точке 1 теодолит был ориентирован на полигонометрический знак ПЗ12, поэтому центр транспортира устанавливают на точке 1 так, чтобы деление $0^{\circ}00'$ располагалось по линии точка 1-ПЗ12 и по часовой стрелке откладывают горизонтальный угол $335^{\circ}10'$. Вдоль полученного направления откладывают в масштабе 1:2000 расстояние 105,7 м. На этой же станции от данного направления наносят речную точку 2, откладывая горизонтальный угол $289^{\circ}30'$ и расстояние 41,2 м.

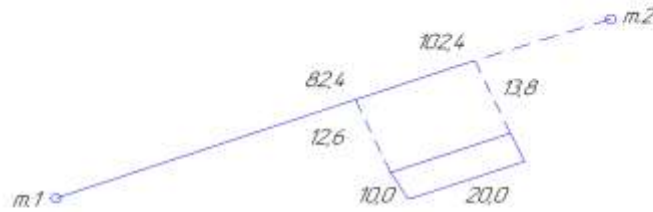
Аналогично наносят остальные речные точки со станции т.2, т.3 и ПЗ 12. При этом надо внимательно следить за правильным ориентированием транспортира и помнить, что углы откладываются по часовой стрелке.

Нанесенную на план речную точку накладывают иглой измерителя, обводят карандашом и подписывают в виде дроби номер точки и ее отметку, значение которой выбирают из журнала (таблица 12, графа 11) и округляют до десятых долей метра. Для речных точек 4 и 8 отметки не определялись, поэтому их только наносят на план, а их отметки не подписываются, и интерполяция горизонталей производиться не будет.

Нанесение на план ситуации

По имеющемуся абрису (рис.18) наносят все подробности местности, снятые способом перпендикуляров, полярным методом и методом засечек.

СПОСОБ ПЕРПЕНДИКУЛЯРОВ



СПОСОБ УГЛОВОЙ ЗАСЕЧКИ




Рис.18. Абрис тахеометрической съемки

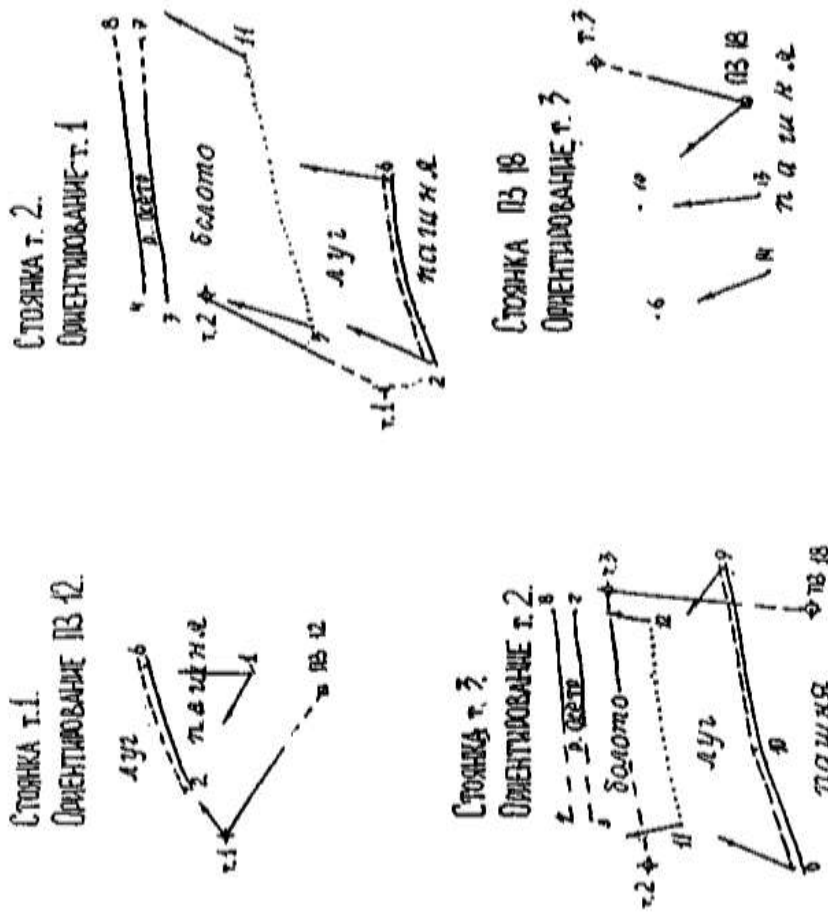


Рис.18. Абрис тахеометрической съемки (продолжение)

Полученные точки контура соединяют согласно абриса.

Рисовка рельефа

По отметкам станций и речных точек проводят горизонтально с высотой сечения и рельефа 0.5 м. Следы горизонталей определяются интерполяцией между точками, которые на абрисе тахеометрической съемки (рис.19) соединены стрелками. Например : на плане (рис. 21) нанесены речные точки 1, 2, 5, 6, с отметками 52.6 м, 52.1 м, 50.7 м, 51.4 м.

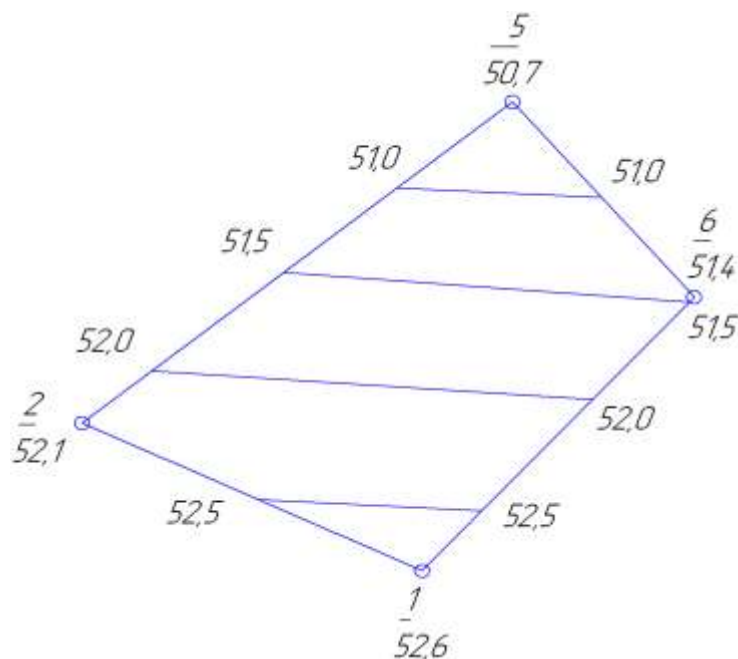


Рис.19. Интерполирование горизонталей

При высоте сечения рельефа 0.5 м между речными точками 1 и 2 проходит след горизонтали с отметкой 52.5 м. В данном случае расстояния от горизонтали с отметкой 52.5 м до речных точек 2 и 1 относятся соответственно как 0.4 м : 0.1 м, т.е. как 4 : 1. Таким образом след горизонтали с отметкой 52.5 м отмечается на глаз на линии 2-1 так, чтобы длина этой линии делилась в отношении 4 : 1. Аналогично намечают по линии 1-6 следы горизонталей с отметками 51.5 м, 52.0 м и 52.5 м, по линии 6 - 5 – с отметкой 51.0 м, по линии 2 – 5 – с отметками 52.0 м, 51.5 м и 51.0 м.

Затем точки с одинаковыми отметками соединяют плавными кривыми линиями, они и являются горизонталями.

Горизонталю, отметки которых выражены целым числом метров подписывают в разрыве горизонталей так, чтобы низ цифр был направлен в сторону по-

нижения рельефа. Через изображение грунтовой дороги и контур здания горизонтали не проводятся.

Оформление топографического плана

Оформление топографического плана происходит согласно “условных знаков...” [3], а также можно руководствоваться образцами условных знаков, которые приведены на рис.20.



Рис. 20. Условные знаки

Образец оформления и вычерчивания плана приведен на рисунке 21

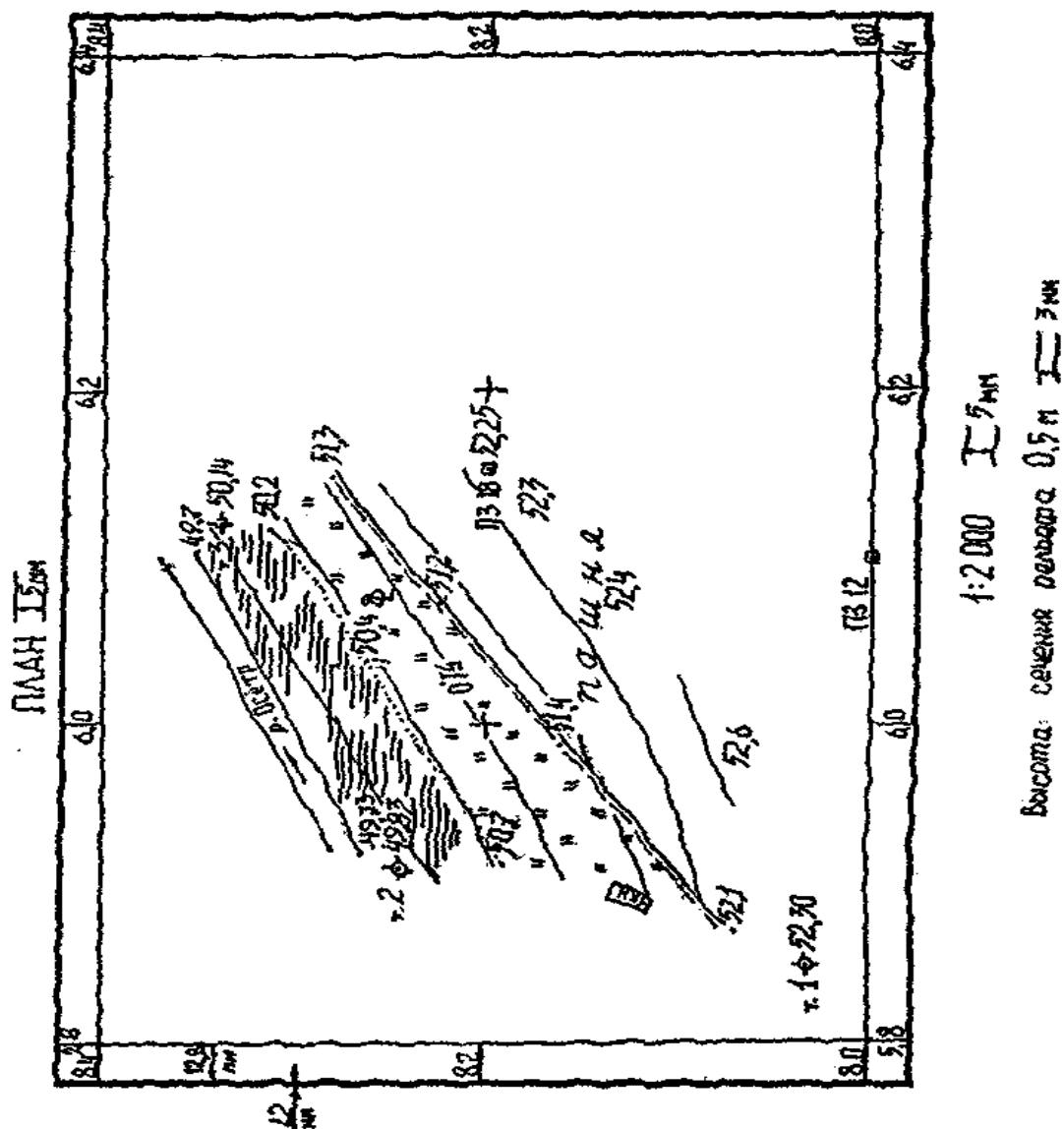


Рис. 21. Образец плана тахеометрической съемки.

Береговые линии реки, заболоченность и пересечение координатных линий вычерчиваются зеленым цветом. Горизонтالي, бергштрихи подписи отметок горизонталей изображаются коричневым цветом.

Зарамочное оформление, полигометрические знаки, точки теодолитного хода, грунтовая дорога и контур здания изображается черным цветом.

Вычерчивание топографического плана производится тушью различных цветов или, в виде исключения, гелиевыми ручками.

Таблица 13

№ варианта	α_{11-12}	α_{18-19}	$X_{18,М}$	$Y_{18,М}$	$H_{12,М}$	$H_{18,М}$
00	57 ⁰ 10'	46 ⁰ 08'	8188,0	6143,50	20,000	19,260
01	58 ⁰ 20'	47 ⁰ 18'	8187,20	6147,00	20,354	19,620
02	59 ⁰ 30'	48 ⁰ 28'	8186,20	6151,30	20,708	19,940
03	60 ⁰ 40'	49 ⁰ 38'	8185,00	6155,00	21,062	20,300
04	61 ⁰ 50'	50 ⁰ 48'	8184,00	6158,30	21,416	20,680
05	63 ⁰ 00'	51 ⁰ 58'	8182,50	6162,00	21,770	21,000
06	64 ⁰ 10'	53 ⁰ 08'	8181,00	6165,70	22,124	21,390
07	65 ⁰ 20'	54 ⁰ 18'	8180,00	6170,00	22,478	21,750
08	66 ⁰ 30'	55 ⁰ 28'	8178,50	6173,00	22,823	22,100
09	67 ⁰ 40'	56 ⁰ 38'	8177,00	6176,70	23,186	22,450
10	68 ⁰ 50'	57 ⁰ 48'	8175,00	6180,40	23,540	22,800
11	70 ⁰ 00'	58 ⁰ 58'	8173,50	6184,00	23,894	23,130
12	71 ⁰ 10'	60 ⁰ 08'	8172,00	6187,70	24,248	23,480
13	72 ⁰ 20'	61 ⁰ 18'	8170,30	6191,00	24,602	23,870
14	71 ⁰ 30'	62 ⁰ 28'	8168,00	6194,20	24,956	24,220
15	74 ⁰ 40'	63 ⁰ 38'	8166,00	6198,00	25,310	24,550
16	75 ⁰ 50'	64 ⁰ 48'	8164,00	6201,00	25,664	24,900
17	77 ⁰ 00'	65 ⁰ 58'	8162,00	6204,50	26,018	25,250
18	78 ⁰ 10'	67 ⁰ 08'	8160,00	6208,00	26,372	25,600
19	79 ⁰ 20'	68 ⁰ 18'	8157,50	6211,00	26,726	25,960
20	80 ⁰ 30'	69 ⁰ 28'	8155,50	6214,00	27,080	26,320
21	81 ⁰ 40'	70 ⁰ 38'	8153,20	6217,50	27,434	26,700
22	82 ⁰ 50'	71 ⁰ 48'	8150,50	6220,30	27,788	27,050
23	84 ⁰ 00'	72 ⁰ 58'	8148,00	6223,30	28,142	27,4000
24	85 ⁰ 10'	74 ⁰ 08'	8145,50	6226,70	28,496	27,730
25	86 ⁰ 20'	75 ⁰ 18'	8143,00	6229,30	28,850	28,120
26	87 ⁰ 30'	76 ⁰ 28'	8140,00	6232,50	29,204	28,460
27	88 ⁰ 40'	77 ⁰ 38'	8137,70	6235,00	29,558	28,800
28	89 ⁰ 50'	78 ⁰ 48'	8135,00	6238,20	29,912	29,150
29	91 ⁰ 00'	79 ⁰ 58'	8132,00	6241,00	30,266	29,500
30	92 ⁰ 10'	81 ⁰ 08'	8129,00	6243,50	30,620	29,880
31	93 ⁰ 20'	82 ⁰ 18'	8126,00	6246,00	30,974	30,234
32	94 ⁰ 30'	83 ⁰ 28'	8123,00	6248,20	31,328	30,590
33	95 ⁰ 40'	84 ⁰ 38'	8120,20	6250,70	31,682	30,920
34	96 ⁰ 50'	85 ⁰ 48'	8116,70	6253,50	32,038	31,300
35	98 ⁰ 00'	86 ⁰ 58'	8114,00	6256,00	32,390	31,650
36	99 ⁰ 10'	88 ⁰ 08'	8110,50	6258,20	32,744	31,980
37	100 ⁰ 20'	89 ⁰ 18'	8107,50	6260,00	33,098	32,360
38	101 ⁰ 30'	90 ⁰ 28'	8104,00	6262,50	33,452	32,720
39	102 ⁰ 40'	91 ⁰ 38'	8101,00	6264,30	33,806	33,040
40	103 ⁰ 50'	92 ⁰ 48'	8097,50	6266,20	34,160	33,420
41	105 ⁰ 00'	93 ⁰ 58'	8093,70	6268,50	34,514	33,750

Таблица 13 (продолжение)						
№ варианта	α_{11-12}	α_{18-19}	$X_{18,м}$	$Y_{18,м}$	$H_{12,м}$	$H_{18,м}$
42	106 ⁰ 10'	95 ⁰ 08'	8090,70	6270,50	34,868	34,100
43	107 ⁰ 20'	96 ⁰ 18'	8087,30	6272,00	35,222	34,450
44	108 ⁰ 30'	97 ⁰ 28'	8083,70	6274,00	35,576	34,810
45	109 ⁰ 40'	98 ⁰ 38'	8079,70	6275,70	35,930	35,190
46	110 ⁰ 50'	99 ⁰ 48'	8076,50	6277,00	36,284	35,550
47	112 ⁰ 00'	100 ⁰ 58'	8073,00	6278,50	36,838	35,900
48	113 ⁰ 10'	102 ⁰ 08'	8069,00	6280,00	36,992	36,250
49	114 ⁰ 20'	103 ⁰ 18'	8065,20	6281,70	37,346	36,580
50	115 ⁰ 30'	104 ⁰ 28'	8082,00	6283,00	37,700	36,940

Таблица 13 (продолжение)

№ варианта	α_{11-12}	α_{18-19}	$X_{18,М}$	$Y_{18,М}$	$H_{12,М}$	$H_{18,М}$
51	116°40′	105°38′	8057,20	6284,00	38,055	37,320
52	117°50′	106°48′	8054,00	6285,00	38,408	37,640
53	119°00′	107°58′	8050,20	6286,00	38,762	38,000
54	120°10′	109°08′	8046,50	6287,00	39,116	38,350
55	121°20′	110°18′	8043,00	6288,00	39,470	38,740
56	122°30′	111°28′	8039,20	6289,00	39,824	39,060
57	123°40′	112°38′	8035,00	6289,50	40,178	39,440
58	124°50′	113°48′	8031,00	6290,50	40,532	39,760
59	126°00′	114°58′	8027,50	6290,70	40,888	40,150
60	127°10′	116°08′	8023,50	6291,50	41,240	40,480
61	128°20′	117°18′	8019,50	6292,00	41,594	40,880
62	129°30′	118°28′	8015,50	6292,00	41,948	41,180
63	130°40′	119°38′	8012,00	6292,30	42,302	41,570
64	131°50′	120°48′	8008,00	6293,00	42,656	41,920
65	133°00′	121°58′	8004,00	6293,00	43,010	42,270
66	134°10′	123°08′	8000,20	6293,00	43,364	42,600
67	135°20′	124°18′	7996,20	6293,00	43,718	42,980
68	136°30′	125°28′	7992,00	6293,00	44,072	43,300
69	137°40′	126°38′	7988,00	6292,70	44,426	43,660
70	138°50′	127°48′	7984,00	6292,00	44,780	44,020
71	140°00′	128°58′	7980,50	6292,00	45,134	44,400
72	141°10′	130°08′	7976,70	6291,20	45,488	44,750
73	142°20′	131°18′	7972,30	6291,00	45,842	45,080
74	143°30′	132°28′	7968,50	6290,50	46,196	45,460
75	144°40′	133°38′	7965,00	6289,50	46,550	45,810
76	145°50′	134°48′	7961,20	6289,00	46,904	46,140
77	147°00′	135°58′	7957,00	6287,80	47,258	46,500
78	148°10′	137°08′	7953,50	6287,00	47,612	46,880
79	149°20′	138°18′	7949,30	6286,00	47,966	47,200
80	150°30′	139°28′	7946,00	6285,00	48,320	47,580
81	151°40′	140°38′	7942,20	6283,70	48,674	47,940
82	152°50′	141°48′	7938,00	6283,00	49,028	48,290
83	154°00′	142°58′	7934,30	6281,70	49,382	48,650
84	155°10′	144°08′	7931,00	6280,20	49,736	48,970
85	156°20′	145°18′	7927,00	6278,50	50,090	49,350
86	157°30′	146°28′	7923,50	6277,00	50,444	49,680
87	158°40′	147°38′	7919,70	6275,70	50,798	50,030
88	159°50′	148°48′	7916,50	6274,00	51,152	50,415
89	161°00′	149°58′	7913,00	6272,00	51,506	50,740
90	162°10′	151°08′	7909,50	6270,00	51,860	51,120
91	163°20′	152°18′	7905,70	6268,50	52,214	51,450

Таблица 13 (продолжение)						
№ варианта	α_{11-12}	α_{18-19}	$X_{18,м}$	$Y_{18,м}$	$H_{12,м}$	$H_{18,м}$
92	164 ⁰ 30′	153 ⁰ 28′	7902,70	6266,70	52,568	51,830
93	165 ⁰ 40′	154 ⁰ 38′	7899,00	6264,20	52,922	52,160
94	166 ⁰ 50′	155 ⁰ 48′	7896,00	6260,00	53,276	52,540
95	168 ⁰ 00′	156 ⁰ 58′	7892,30	6262,50	53,630	52,900
96	169 ⁰ 10′	158 ⁰ 08′	7889,50	6258,20	53,984	53,250
97	170 ⁰ 20′	159 ⁰ 18′	7886,00	6256,00	54,338	53,600
98	171 ⁰ 30′	160 ⁰ 28′	7883,20	6253,50	54,692	53,930
99	172 ⁰ 40′	161 ⁰ 38′	7880,00	6251,20	55,046	54,280

Контрольные вопросы для задачи 4

1. В чем сущность тахеометрической съемки?
2. Какие инструменты применяют при тахеометрической съемке?
3. Какие виды съёмочного обоснования применяют при тахеометрической съемке?
4. Каков состав и порядок полевых работ при тахеометрической съемке?
5. Каков порядок работы на станции?
6. Как ориентируют лимб при тахеометрической съемке?
7. Какая документация ведется при тахеометрической съемке?
8. Чем отличаются кроки от абриса?
9. В чем заключается обработка журнала тахеометрической съемки?

Учебное издание

Елена Валентиновна Байдакова

Валентина Николаевна Кровопускова

Евгений Михайлович Байдаков

ИНЖЕНЕРНАЯ ГЕОДЕЗИЯ

Методические указания

к выполнению контрольных и расчетно-графических работ
для студентов очной и заочной форм обучения по направлению:
природообустройство и водопользование, землеустройство и кадастры

Редактор Павлютина И.П.

Подписано к печати 22.01.2013 г.
Формат 60x84 1/16. Тираж 100 экз. Печ.л. 5,11.
Изд. №2283.

Брянская государственная сельскохозяйственная академия. 243365.
Брянская обл., Выгоничский район, с. Кокино, Брянская ГСХА.

